

भाग -1  
अध्याय 1 व्यष्टि अर्थशास्त्र , एक परिचय सामान्य अर्थव्यवस्था

वस्तुनिष्ठ	अंकवार प्रश्नों की संख्या			इकाई पर आवंटित अंक
1 अंक	2 अंक	3 अंक	4 अंक	
02	01	-	-	04

**प्र.1 सही विकल्प चुनिए -**

- (i) व्यष्टि अर्थशास्त्र में निम्न में से किसका अध्ययन किया जाता है -  
 (अ) व्यक्तिगत इकाई (ब) राष्ट्रीय आय  
 (स) पूर्ण रोजगार (द) उपरोक्त सभी
- (ii) उपभोक्ता व्यवहार का अध्ययन किया जाता है -  
 (अ) सूक्ष्म अर्थशास्त्र में (ब) आय विश्लेषण में  
 (स) समष्टि अर्थशास्त्र में (द) उपरोक्त में से कोई नहीं
- (iii) अर्थव्यवस्था को वर्गीकृत किया जा सकता है -  
 (अ) पूंजीवादी रूप में (ब) समाजवादी रूप में  
 (स) मिश्रित रूप में (द) उपरोक्त सभी
- (iv) अर्थव्यवस्था की केन्द्रीय समस्याएं हैं -  
 (अ) क्या उत्पादन किया जावे (ब) कैसे उत्पादन किया जावे  
 (स) उत्पादित वस्तु का वितरण कैसे हो (द) उपरोक्त सभी
- (v) निम्न में से किस अर्थव्यवस्था में निजी एवं सार्वजनिक क्षेत्र का सह-अस्तित्व पाया जाता है  
 (अ) पूंजीवादी (ब) समाजवादी  
 (स) मिश्रित (द) इनमें से कोई नहीं
- (vi) एक समाजवादी अर्थव्यवस्था का मूल उद्देश्य होता है -  
 (अ) अधिकतम उत्पादन (ब) आर्थिक स्वतंत्रता  
 (स) लाभ कमाना (द) अधिकतम लोक कल्याण
- (vii) किस अर्थव्यवस्था में कीमत तंत्र के आधार पर निर्णय लिये जाते हैं -  
 (अ) समाजवादी (ब) मिश्रित  
 (स) पूंजीवादी (द) उपरोक्त में से कोई नहीं
- (viii) आर्थिक समस्या मूलतः किस तथ्य की समस्या है -  
 (अ) चुनाव की (ब) आवश्यकता की  
 (स) उत्पादन की (द) उपरोक्त सभी
- (ix) उस वक्र का नाम बताइये जो आर्थिक समानता को दर्शाता है -  
 (अ) उत्पादन वक्र (ब) मांग वक्र  
 (स) उदासीनता वक्र (द) उत्पादन संभावना वक्र
- (x) अर्थशास्त्र के जनक कहलाते हैं -  
 (अ) प्रो.जे.बी.से. (ब) प्रो. माल्थस

(स) एडम स्मिथ

(द) राबिन्स

**प्र.2 रिक्त स्थान भरिए -**

- (i) सभी क्रियाएं जो आय सृजित करती हैं ..... क्रियाएं होती हैं।
- (ii) एक व्यक्तिगत उपभोक्ता का व्यवहार ..... अर्थशास्त्र का एक अंग है।
- (iii) आर्थिक समानता मुलतः ..... की समानता है।
- (iv) आर्थिक समस्याएं उत्पन्न होती हैं क्योंकि इच्छाएं ..... से अधिक होती हैं।
- (v) उत्पादन संभावना वक्र बाये से ..... ढाल लिए होता है।
- (vi) छोटे-छोटे चरो का अध्ययन..... अर्थशास्त्र में किया जाता है।
- (vii) पूंजीवादी अर्थव्यवस्था में प्रत्येक साहसी अपने लाभ को ..... करना पड़ता है।
- (viii) विश्व की प्रत्येक अर्थव्यवस्था को कुछ आधारभूत ..... समस्या का सामना करना पड़ता है।
- (ix) व्यष्टि तथा समष्टि अर्थशास्त्र एक-दूसरे के ..... होते हैं।
- (x) एक वस्तु की अवसर लागत दूसरे वस्तु की वह मात्रा है जो पहली वस्तु के उत्पादन के लिए ..... पड़ता है।

**प्र.3 सही जोड़ियाँ बनाइये -**

**खण्ड अ**

- (i) व्यष्टि अर्थशास्त्र
- (ii) उत्पादन संभावना वक्र का अध्ययन
- (iii) आदर्शक अर्थशास्त्र
- (iv) केन्द्रीय समस्याएं
- (v) सकारात्मक अर्थशास्त्र समाजवाद का मिश्रण
- (vi) समष्टि अर्थशास्त्र क्रियाशील
- (vii) अवसर लागत का त्याग
- (viii) समाजवादी अर्थव्यवस्था
- (ix) पूंजीवादी अर्थव्यवस्था
- (x) मिश्रित अर्थव्यवस्था

**खण्ड ब**

- (अ) क्या होनी चाहिये का अध्ययन
- (ब) छोटी-छोटी इकाइयों
- (स) क्या है का अध्ययन
- (द) मुख्यतः तीन होती हैं।
- (इ) पूंजीवाद तथा
- (फ) कीमत संयंत्र
- (य) दूसरे सर्वश्रेष्ठ विकल्प
- (र) समग्र का अध्ययन
- (ल) सामाजिक स्वामित्व
- (व) बाये से दाये ढाल वाला

**प्र.4 एक शब्द/वाक्य में उत्तर लिखिये -**

- (i) आय सृजन करने वाले सभी क्रियाएं क्या कहलाती हैं?
- (ii) व्यष्टि अर्थशास्त्र का दूसरा नाम लिखिये?
- (iii) किस प्रकार की अर्थव्यवस्था में केन्द्रीय सत्ता सभी महत्वपूर्ण क्रियाकलापों की योजना बनाती है?

- (iv) किस प्रकार की अर्थव्यवस्था में कीमत संयंत्र काम करता है।
- (v) अवसर लागत क्या है।
- (vi) उत्पादन संभावना वक्र का ढाल कैसा होता है?
- (vii) अर्थशास्त्र के जनक कौन है?
- (viii) भारत में कौनसी आर्थिक प्रणाली अपनायी गई है?
- (ix) व्यष्टि तथा समष्टि अर्थशास्त्र में कैसा संबंध है।
- (x) समष्टि अर्थशास्त्र का दूसरा नाम क्या है?

**प्र.5 सत्य/असत्य बताइये -**

- (i) व्यष्टि अर्थशास्त्र में समूह का अध्ययन किया जाता है।
- (ii) समष्टि अर्थशास्त्र में व्यक्तिगत इकाइयों का अध्ययन किया जाता है।
- (iii) व्यष्टि तथा समष्टि अर्थशास्त्र एक-दूसरे के विपरीत है।
- (iv) समाजवादी अर्थव्यवस्था में उत्पादन के साधनों पर सार्वजनिक अधिकार होता है।
- (v) साधनों की सीमितता ही समस्त आर्थिक क्रियाओं की जननी है।
- (vi) आर्थिक प्रणाली लोगों को जीवन निर्वाह के साधन प्रदान करती है।
- (vii) भारत में मिश्रित आर्थिक प्रणाली को अपनाया गया है।
- (viii) पूंजीवाद वर्ग संघर्ष को जन्म देता है।
- (ix) उत्पादन संभावना वक्र दो वस्तुओं के संभावित संयोगों को प्रकट करता है।
- (x) अवसर लागत की अवधारणा इस तथ्य पर आधारित है कि उत्पत्ति के साधन असीमित है।

**प्र.6 अति लघुउत्तरीय प्रश्न -**

1. व्यष्टि अर्थशास्त्र किसे कहते हैं?
2. समष्टि अर्थशास्त्र किसे कहते हैं?
3. अर्थव्यवस्था किसे कहते हैं?
4. पूंजीवादी क्या है?
5. समाजवादी अर्थव्यवस्था किसे कहते हैं?
6. मिश्रित अर्थव्यवस्था का अर्थ लिखिए।
7. अवसर लागत किसे कहते हैं?
8. सकारात्मक अर्थव्यवस्था किसे कहते हैं?
9. आदर्शक अर्थशास्त्र किसे कहते हैं?
10. किसी अर्थव्यवस्था की मुख्यतः कितनी केन्द्रीय समस्याएं होती हैं।
11. व्यष्टि अर्थशास्त्र की विशेषताएं लिखिये।
12. 'क्या उत्पादन किया जावे' की समस्या को समझाइये।
13. 'कैसे उत्पादन किया जावे' की समस्या को समझाइये।
14. 'किसके लिए उत्पादन किया जावे' की समस्या को समझाइये।
15. बाजार अर्थव्यवस्था की विशेषताएं लिखिये।
16. नियोजित अर्थव्यवस्था की विशेषताएं लिखिये।
17. मिश्रित अर्थव्यवस्था की विशेषताएं लिखिये।
18. सकारात्मक तथा आदर्शक अर्थशास्त्र को समझाइये।
19. व्यष्टि तथा समष्टि अर्थशास्त्र में अंतर लिखिये।
20. अवसर लागत की अवधारणा को समझाइये।

21. सीमांत उत्पाद संभावना क्या है।
22. योजनाबद्ध अर्थव्यवस्था तथा बाजार अर्थव्यवस्था में भेद कीजिये।
23. अर्थव्यवस्था की केन्द्रीय समस्याओं को समझाइये।
24. व्यष्टि तथा समष्टि अर्थशास्त्र एक दूसरे के पूरक है 1 समझाइये।
25. उत्पादन संभावना वक्र को तालिका एवं चित्र द्वारा समझाइये।
26. PPC के विचार का प्रयोग करते हुये दुर्लभता की समस्या स्पष्ट कीजिये।
27. उत्पादन संभावना वक्र का ढाल कैसा होता है। यह क्या बताता है?
28. उदाहरण की सहायता से अवसर लागत को स्पष्ट करे।
29. सकरात्मक तथा आदेशक अर्थशास्त्र में अंतर स्पष्ट कीजिये।
30. मिश्रित अर्थव्यवस्था को भारत के संदर्भ में समझाइये।

### अध्याय-2, उपभोक्ता के व्यवहार का सिद्धांत

वस्तुनिष्ठ	अंकवार प्रश्नों की संख्या			इकाई पर आवंटित अंक
1 अंक	2 अंक	3 अंक	4 अंक	
05	-	02	01	15

#### प्र.1 सही विकल्प चुनिए -

- (i) जब कुल उपयोगिता अधिकतम होती है तब सीमान्त उपयोगिता -
  - (अ) धनात्मक होती है।
  - (ब) ऋणात्मक होती है।
  - (स) शून्य होती है।
  - (द) उपरोक्त सभी
- (ii) उदासीनता वक्र होता है -
  - (अ) मूल बिन्दू की ओर उन्नोदर
  - (ब) मूल बिन्दू की ओर अवमोदर
  - (स) अ व दोनो सत्य
  - (द) उपरोक्त सभी असत्य
- (iii) उपयोगिता का संबंध होता है -
  - (अ) लाभदायकता से
  - (ब) मानव आवश्यकता की पूर्ति से
  - (स) नैतिकता से
  - (द) उपरोक्त में से कोई नहीं
- (iv) किसी वस्तु की मानवीय आवश्यकता की पूर्ति की क्षमता को कहते हैं -
  - (अ) उत्पादकता
  - (ब) उपयोगिता
  - (स) लाभदायकता
  - (द) उपरोक्त में से कोई नहीं
- (v) उपभोक्ता का संतुलन उस बिन्दु पर होता है जब -
  - (अ) सीमांत उपयोगिता = मूल्य
  - (ब) सीमांत उपयोगिता < मूल्य
  - (स) सीमांत उपयोगिता > मूल्य
  - (द) इनमें से कोई नहीं
- (vi) मांग में कौनसा तत्व निहित होना आवश्यक है -
  - (अ) वस्तु की इच्छा
  - (ब) एक निश्चित मूल्य
  - (स) व्यय करने की तत्परता
  - (द) उपरोक्त सभी
- (vii) ऐसी वस्तुएं जिनका एक-दूसरे के बदले प्रयोग किया जाता है कहलाती है-

- (अ) पूरक वस्तुएं (ब) स्थानापन्न वस्तुएं  
 (स) आरामदायक वस्तुएं (द) कोई नहीं  
 (viii) मांग का नियम है -  
 (अ) गुणात्मक कथन (ब) मात्रात्मक कथन  
 (स) अ तथा ब दोनों (द) इनमें से कोई नहीं

- (ix) कॉफी के मूल्य में वृद्धि से चाय की मांग -  
 (अ) बढ़ती है। (ब) घटती है।  
 (स) स्थिर रहती है। (द) इनमें से कोई नहीं  
 (x) मांग की कीमत लोच से अभिप्राय है -  
 (अ) कीमत में परिवर्तन के कारण मांग में परिवर्तन (ब) मांग में परिवर्तन  
 (स) आय में परिवर्तन (द) पूर्ति में परिवर्तन

### प्र.2 रिक्त स्थान भरिए -

- (i) उपयोगिता का अर्थ है आवश्यकता ..... की शक्ति का होना  
 (ii) कुल उपयोगिता ..... उपयोगिताओं का योग होती है।  
 (iii) उदासीनता वक्र मूल बिन्दु की ओर ..... होता है।  
 (iv) जब सीमान्त उपयोगिता शून्य होती है। तब कुल उपयोगिता ..... होती है।  
 (v) पूर्ण तृप्ति बिन्दु पर सीमांत उपयोगिता ..... होती है।  
 (vi) मांग वक्र बाये से दाये ..... ढाल वाला होता है।  
 (vii) सामान्य वस्तुओं के लिये आय प्रभाव ..... वस्तुओं की मांग घटा देता है।  
 (viii) आय बढ़ने पर उपभोक्ता ..... वस्तुओं की मांग घटा देता है।  
 (ix) गिफीन वस्तुओं के लिए मांग की लोच ..... होती है।  
 (x) विलासीता की वस्तुओं के लिए मांग की लोच ..... होती है।

### प्र.3 सही जोड़ियाँ बनाइये -

#### खण्ड अ

- (i) कुल उपयोगिता संबंध  
 (ii) सीमांत उपयोगिता  
 (iii) उदासीनता मानचित्र  
 (iv) मांग के आवश्यक तत्व  
 (v) मांग का नियम  
 (vi) मांग के नियम का अपवाद

#### खण्ड ब

- (अ) कीमत तथा मांग में विपरित  
 (ब) पांच होते हैं।  
 (स) उदासीनता वक्रों का समूह  
 (द) MU  
 (इ) TU  
 (फ) कीमत में वृद्धि से मांग कम होना

(vii) पूरक वस्तुएं

(य) कीमत में कमी से मांग बढ़ जाना

(viii) स्थानापन्न वस्तुएं

(र) गिफिन वस्तुएं

(ix) मांग का विस्तार

(ल) कार तथा पेट्रोल

(x) मांग का संकुचन

(व) चाय तथा कॉफी

#### प्र.4 एक शब्द/वाक्य में उत्तर लिखिये -

(i) बजट रेखा का दूसरा नाम क्या है?

(ii) जब सीमांत उपयोगिता शून्य होती है तब कुल उपयोगिता क्या होगी?

(iii) उस उपयोगिता का नाम बताइये जो पहले बढ़ती है फिर स्थिर होती है और उसके बाद घटती है?

(iv) उदासीनता वक्रों के समूह को क्या कहा जाता है?

(v) मांग की कीमत लोच कितने प्रकार की होती है?

(vi) गिफिन वस्तुओं के लिए मांग की लोच कैसी होती है?

(vii) विलासिता की वस्तुओं की मांग की लोच किस प्रकार की होती है?

(viii) मांग की लोच किस प्रकार का कथन है?

(ix) एक वस्तु की सभी इकाईयों से प्राप्त होने वाली उपयोगिता के योग को क्या कहते हैं?

(x) किसी वस्तु की मानवीय आवश्यकता की पूर्ति की क्षमता को क्या कहते हैं?

#### प्र.5 सत्य/असत्य बताइये -

(i) सीमांत उपयोगिता ऋणात्मक भी हो सकती है।

(ii) कुल उपयोगिता हमेशा बढ़ती है।

(iii) उपभोक्ता संतुलन = सीमांत उपयोगिता - मूल्य होता है।

(iv) उपयोगिता की माप की जा सकती है।

(v) उदासीनता वक्र मूल बिन्दु की ओर अवनोत्तर होता है।

(vi) उपयोगिता का संबंध लाभदायकता से है।

(vii) कीमत तथा मांग में हमेशा सीधा संबंध होता है।

(viii) कुल उपयोगिता को TU कहा जाता है।

(ix) कॉफी के मूल्य में वृद्धि होने से चाय की मांग कम हो जाती है।

(x) ऐसी वस्तुएं जिनका एक दूसरे के बदले प्रयोग किया जाता है। पूरक वस्तुएं कहलाती हैं।

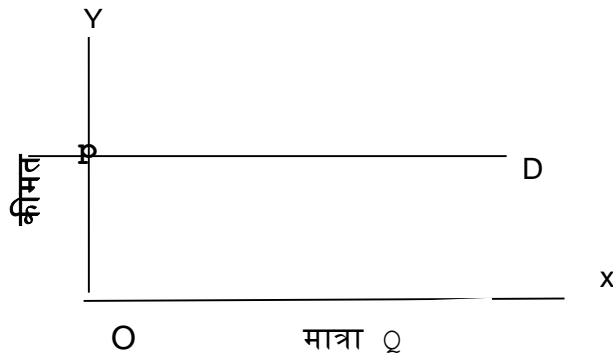
#### • लघु उत्तरीय प्रश्न -

1. उपयोगिता की तीन विशेषताएं लिखिये।
2. गणनावाचक उपयोगिता विश्लेषण क्या है।
3. कुल उपयोगिता को उदाहरण सहित समझाइये।
4. सीमांत उपयोगिता को उदाहरण सहित समझाइये।
5. अनधिमान वक्रों की विशेषताएं लिखिये। (कोई तीन)
6. मांग का नियम तालिका तथा चित्र की सहायता से समझाइये।
7. स्थानापन्न वस्तुएं क्या हैं उदाहरण सहित समझाइये।
8. पूरक वस्तुएं क्या हैं? उदाहरण सहित समझाइये।
9. सर गिफिन का विरोधाभास क्या है?

10. सामान्य तथा निम्नस्तरीय वस्तुओं को उदाहरण सहित समझाइये। कुल उपयोगिता का सूत्र लिखिये।
11. मांग का अर्थ, मांग का नियम लिखिये।
12. मांग की लोच का सूत्र, प्रमुख श्रेणीया लिखिये।
13. बजट रेखा, बजट सेट किसे कहते हैं?
14. उपभोक्ता के बजट सेट से आप क्या समझते हैं?
15. मांग के नियम के अपवादों को समझाइए 1

• निबंधात्मक प्रश्न -

1. कुल उपयोगिता तथा सीमांत उपयोगिता में संबंध बताइये।
2. ह्यासमान उपयोगिता नियम को सचित्र समझाइये।
3. कौनसा कारण उदासीनता वक्र को मूल बिन्दू की ओर उन्नोतर बनाता है
4. क्या मांग वक्र धनात्मक ढाल वाला हो सकता है।
5. एक वस्तु की कीमत में कमी सदैव उसकी मांग में विस्तार लाती है।" क्या सहमत है।
6. निम्नलिखित चित्र किस प्रकार की मांग की लोच को प्रदर्शित करता है। समझाइये।



7. मांग के विस्तार तथा संकुचन को समझाइये।
8. मांग का नियम लिखिये। "अन्य बाते समान रहने पर" का क्या मतलब है। जिस पर नियम आधारित है।
9. जब सीमांत उपयोगिता घटती है। तब कुल उपयोगिता किस दर से बढ़ती है? चित्र द्वारा समझाइये।
10. मांग की कीमत लोच की विभिन्न श्रेणियों की व्याख्या कीजिये।

अध्याय - 3, उत्पादन तथा लागत

वस्तुनिष्ठ	अंकवार प्रश्नों की संख्या	इकाई पर आवंटित अंक
------------	---------------------------	--------------------

1 अंक	2 अंक	3 अंक	4 अंक	
04	01	-	01	10

**प्र.1 सही विकल्प चुनिए -**

- (i) उत्पादन फलन में उत्पादन किसका फलन है -  
 (अ) कीमत का (ब) उत्पत्ति के साधनों का  
 (स) कुल व्यय का (द) इनमें से कोई नहीं
- (ii) अल्पकालीन उत्पादन फलन की व्याख्या निम्नलिखित में से किस नियम द्वारा की जाती है  
 (अ) मांग के नियम से (ब) परिवर्तनशील अनुपातो के नियम द्वारा  
 (स) मांग की लोच द्वारा (द) उपरोक्त से कोई नहीं
- (iii) दीर्घकालीन उत्पादन फलन का संबंध निम्न में से किस से है -  
 (अ) मांग के नियम से (ब) उत्पत्ति वृद्धि नियम से  
 (स) पैमाने के प्रतिफल नियम द्वारा (द) मांग की लोच द्वारा
- (iv) उत्पादन के साधन है -  
 (अ) भूमि (ब) श्रम  
 (स) पूँजी (द) उपरोक्त सभी
- (v) वह कौनसा समय है जिसमें उत्पादन के सभी साधन परिवर्तित किये जा सकते हैं -  
 (अ) अल्पकाल (ब) दीर्घकाल  
 (स) अति अल्पकाल (द) उपरोक्त में से कोई नहीं
- (vi) उत्पत्ति हास नियम लागू होने का मुख्य कारण कौन-सा है -  
 (अ) साधनों की सीमितता (ब) साधनों का अपूर्ण स्थानापन्न होना  
 (स) अ तथा ब दोनों (द) इनमें से कोई नहीं
- (vii) औसत लागत वक्र का आकार होता है -  
 (अ) U अक्षर जैसा (ब) X अक्ष की समांतर रेखा  
 (स) Z अक्षर जैसा (द) Y अक्ष की समांतर रेखा
- (viii) अल्पकाल में उत्पादन प्रक्रिया में निम्नलिखित में से कौन से साधन होते हैं -  
 (अ) स्थिर साधन (ब) परिवर्तनशील साधन  
 (स) अ तथा ब दोनों (द) उपरोक्त में से कोई नहीं
- (ix) उत्पादन बंद कर देने पर निम्नलिखित में से कौन सा प्रभाव पड़ता है -  
 (अ) स्थिर लागते बढ़ जाती है (ब) परिवर्तनशील लागते कम हो जाती है।  
 (स) परिवर्तनशील लागते शून्य हो जाती है। (द) स्थिर लागते शून्य हो जाती है।
- (x) उत्पादन की मात्रा में परिवर्तन का प्रभाव -  
 (अ) केवल परिवर्तनशील लागतो पर पड़ता है। (ब) केवल स्थिर लागतो पर पड़ता है।



(स) अ तथा ब दोनो  
नही

(द) उपरोक्त में से कोई

(xi) उत्पादन की 5 इकाईयो की औसत स्थिर लागत रू 20 है। 5 इकाईयो की औसत परिवर्तनशील लागत रू. 40 है। 5 इकाईयो की औसत लागत क्या होगी।

(अ) रू 20

(ब) रू 40

(स) रू 56

(द) रू 60

### प्र.2 रिक्त स्थान भरिए -

(i) साधन की एक इकाई बढ़ाने पर कुल उत्पादन में होने वाली वृद्धि.....कहलाती है।

(ii) अल्पकालीन उत्पादन फलन को ..... कहा जाता है।

(iii) पैमाने के प्रतिफलों का संबंध..... काल की अवधि से है।

(iv) जब MP शून्य होता है तब TP ..... होता है।

(v)..... में उत्पादन के सभी साधन परिवर्तित किये जा सकते है।

(vi) सीमांत लागत केवल..... लागतो पर निर्भर करती है।

(vii)..... अवधि में स्थिर लागत नहीं होती है।

(viii) उत्पादन की प्रति इकाई लागत को ..... लागत कहते है।

(ix) औसत लागत वक्र का आकार ..... अक्षर जैसा होता है।

(x) कुल परिवर्तनशील लागत = कुल लागत (-) .....

### प्र.3 सही जोड़ियाँ बनाइये -

खण्ड अ

खण्ड ब

(i) कुल उत्पादन परिवर्तन

(अ) कम से कम एक कारक में

(ii) सीमांत उत्पादन

(ब) अल्पकाल से संबंधित

(iii) स्थिर लागत

(स) MP

(iv) परिवर्तनशील लागत

(द) TP

(v) अल्पकाल

(इ) दीर्घकाल से संबंधित

(vi) दीर्घकाल

(फ) FC

(vii) परिवर्ती अनुपात नियम

(य) VC

(viii) पैमाने के प्रतिफल

(र) U- अक्षर जैसा

(ix) औसत लागत वक्र का आकार सम्बन्ध

(ल) आगतो तथा निर्गतो के बीच

(x) उत्पादन फलन

(व) सभी कारको में परिवर्तन

### प्र.4 एक शब्द/वाक्य में उत्तर लिखिये -

(i) अल्पकालीन उत्पादन फलन को क्या कहा जाता है।

- (ii) एक निश्चित समय में उत्पादित वस्तुओं की कुल मात्रा क्या कहलाती है।
- (iii) उत्पादन फलन कितने प्रकार के होते हैं।
- (iv) उत्पादन के चार साधनों के नाम लिखिये।
- (v) पैमाने के प्रतिफल का संबंध किस प्रकार की अवधि से होता है।
- (vi) किसी वस्तु के उत्पादन में मुद्रा के रूप में खर्च की गई क्या कहलाती है।
- (vii) प्रति इकाई लागत को ओर किस नाम से जाना जाता है।
- (viii) औसत लागत वक्र की आकृति अंग्रेजी के किस अक्षर जैसी होती है।
- (ix) उत्पादन की मात्रा में परिवर्तन होने पर जो लागत परिवर्तित होती है। उसे क्या कहते हैं।
- (x) स्थिर लागत का दूसरा नाम क्या है।

**प्र.5 सत्य/असत्य बताइये -**

- (i) उत्पादन फलन में उत्पादन कीमतों का फलन है।
- (ii) कुल उत्पादन को MP से प्रदर्शित किया जाता है।
- (iii) सीमान्त उत्पादन को TP द्वारा प्रदर्शित किया जाता है।
- (iv) औसत लागत वक्र का आकार U अक्षर जैसा होता है।
- (v) अल्पकाल में उत्पादन के केवल स्थिर साधन होते हैं।
- (vi) उत्पादन बंद कर देने से स्थिर लागतें शून्य हो जाती हैं।
- (vii) प्रीमियम स्थिर लागत है।
- (viii) उत्पादन की प्रति इकाई लागत को सीमान्त लागत कहते हैं।
- (ix) उत्पत्ति ह्यास नियम लागू होता है क्योंकि साधन सीमित होते हैं।
- (x) पैमाने के प्रतिफलो का सम्बन्ध दीर्घकाल से होता है।

**प्र.6 अति लघुउत्तरीय प्रश्न -**

1. अल्पकाल अवधि से क्या अभिप्राय है?
2. दीर्घकाल अवधि से क्या अभिप्राय है?
3. उत्पादन फलन किसे कहते हैं?
4. कुल उत्पादन का अर्थ लिखिये?
5. सीमांत उत्पादन का अर्थ लिखिये?
6. पैमाने के प्रतिफल किसे कहते हैं?
7. लागत का अर्थ लिखिये।
8. अल्पकालीन लागत किसे कहते हैं?
9. स्थिर लागत किसे कहते हैं?
10. परिवर्तनशील लागत का अर्थ लिखिए?
11. अल्पकाल तथा दीर्घकाल की अवधारणा को समझाइये?
12. कुल उत्पादन तथा सीमांत उत्पादन के संबंध को समझाइये?
13. औसत लागत वक्र U आकार के क्यों होते हैं?
14. पैमाने के ह्यासमान प्रतिफल को समझाइए?
15. ह्यासमान उत्पादन का नियम क्या है?
16. परिवर्तनशील अनुपात के नियम की अवस्थाएं लिखिये?
17. स्थिर लागत तथा परिवर्तनशील लागत का एक-एक उदाहरण दीजिये?
18. सीमांत लागत तथा औसत लागत में अंतर स्पष्ट कीजिये?
19. उत्पादन लागत के विभिन्न प्रकारों का वर्णन कीजिये?

20 लागत फलन की संकल्पनाओ को संक्षिप्त में समझाइए?

**प्र.7 निबंधात्मक प्रश्न -**

1. उत्पादन फलन की संकल्पना को समझाइये?
2. ह्यासमान सीमांत उत्पादन नियम या परिवर्ती अनुपात नियम को चित्र द्वारा समझाइये?
3. पैमाने के प्रतिफल की अवधारणा को समझाइये?
4. पैमाने के प्रतिफल तथा परिवर्ती अनुपातों के नियम में अंतर स्पष्ट कीजिये?
5. पैमाने के बढ़ते प्रतिफल के क्या कारण है ?
6. सीमांत लागत केवल परिवर्तनशील लागत पर निर्भर है। क्या आप सहमत है? क्यों?
7. स्थिर लागत दीर्घकाल में समाप्त हो जाती है। क्यों?
8. निम्नलिखित तालिका श्रम का कुल उत्पादन अनुसूची को प्रदर्शित करती है। इसके आधार पर सीमांत उत्पादन अनुसूची बनाइये।

श्रम	कुल उत्पाद
1	15
2	35
3	50
4	48
5	40

9. निम्नलिखित तालिका श्रम का सीमांत उत्पादन अनुसूची को प्रदर्शित करती है। इसके आधार पर कुल उत्पादन अनुसूची बनाइये।

श्रम -	1	2	3	4	5
सीमांत उत्पादन -	10	18	25	10	5

10. कुल उत्पाद तथा सीमांत उत्पाद को चित्र द्वारा प्रदर्शित कीजिये।

**अध्याय - 4 पूर्ण प्रतिस्पर्धा की स्थिति में फर्म का सिद्धांत**

वस्तुनिष्ठ 1 अंक	अंकवार प्रश्नों की संख्या			इकाई पर आवंटित अंक
	2 अंक	3 अंक	4 अंक	
02	-	01	-	05

**प्र.1 सही विकल्प चुनिए -**

- (i) कोई फर्म संतुलन में होता है जब -
  - (अ)  $MR=MC$
  - (ब)  $MR>MC$
  - (स)  $MR<MC$
  - (द)  $MR=MC=0$
- (ii) पूर्ति निम्नलिखित में से किस से जुड़ी होती है -
  - (अ) समय अवधि से
  - (ब) कीमत से
  - (स) अ तथा ब दोनों
  - (द) कोई नहीं
- (iii) अन्य बातें समान हो वस्तु की कीमत तथा पूर्ति की मात्रा में धनात्मक संबंध क्या व्यक्त करता है-
  - (अ) मांग का नियम
  - (ब) पूर्ति की लोच
  - (स) पूर्ति का नियम
  - (द) मांग की लोच से

(iv) पूर्ति में कमी के निम्नलिखित में से कौनसे कारण है-

(अ) उत्पादन लागत में वृद्धि (ब) स्थानापन्न वस्तुओं की कीमतों में वृद्धि

(स) उद्योगों में फर्मों की संख्या में कमी (द) उपर्युक्त सभी

(v) वस्तु की उस मांग को क्या कहते हैं जिसे विक्रेता निश्चित समय, बाजार तथा कीमत पर बेचने को तैयार है-

(अ) पूर्ति (ब) मांग

(स) पूर्ति की लोच (द) मांग की लोच

(vi) जब किसी वस्तु की कीमत में 40 की वृद्धि हो परन्तु पूर्ति में केवल 15 की वृद्धि हो ऐसी वस्तु की पूर्ति की लोच होगी।

(अ) अत्यधिक लोचदार (ब) लोचदार

(स) बेलोचदार (द) पूर्णतः लोचदार

(vii) औसत आगम किसके समान होती है-

(अ) कीमत (ब) सीमान्त आगम

(स) कुल आगम (द) उपरोक्त में से कोई नहीं

(viii)  $e_s = 0$  का अर्थ है कि पूर्ति की लोच -

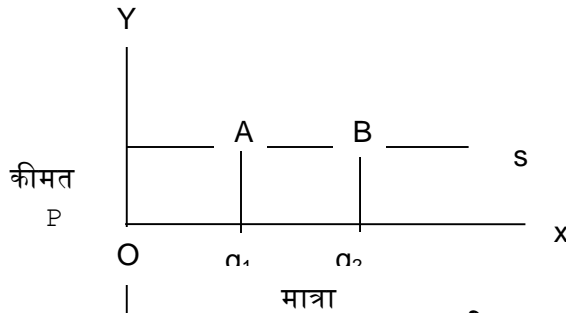
(अ) पूर्णतः लोचदार है। (ब) पूर्णतः बेलोचदार है।

(स) क्रय लोचदार है। (द) इकाई लोचदार है।

(ix) निम्नलिखित चित्र प्रदर्शित करता है -

(अ) पूर्णतया लोचदार पूर्ति (ब) लोचदार पूर्ति

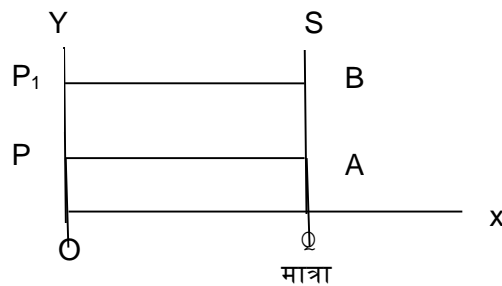
(स) पूर्णतया बेलोचदार पूर्ति (द) बेलोचदार पूर्ति



(x) निम्नलिखित चित्र प्रदर्शित करता है-

(अ) लोचदार पूर्ति (ब) बेलोचदार पूर्ति

(स) पूर्णतः लोचदार पूर्ति (द) पूर्णतः बेलोचदार पूर्ति



## प्र.2 रिक्त स्थान भरिए -

(i) ..... सदैव वस्तु की प्रति इकाई कीमत को प्रदर्शित करता है।

- (ii) जब MR ..... होता तो तब TR अधिकतम होता है।  
 (iii) कम कीमत पर पूर्ति स्टॉक से ..... होती है।  
 (iv) पूर्ति का नियम कीमत और वस्तु की पूर्ति के बीच ..... संबंध को बताता है।  
 (v) सामान्य वस्तुओं के लिए पूर्ति वक्र ..... ढाल वाला होता है।  
 (vi) पूर्णतः ..... पूर्ति वक्र Y अक्ष के समान्तर होता है।  
 (vii) अति अल्पकाल में पूर्ति पूर्णतः ..... होती है।  
 (viii) दूध जैसी वस्तु के लिए पूर्ति की लोच पूर्णतः ..... होती है।  
 (ix) पूर्ति की कीमत लोच ..... प्रकार की होती है।  
 (x) पूर्ण प्रतियोगिता एक ..... स्थिति होती है।

### प्र.3 सही जोड़ियाँ बनाइये -

#### खण्ड अ

- (i) पूर्ण प्रतियोगिता  
 (ii) ओसत सम्प्राप्ति  
 (iii) कुल लाभ विक्रेताओं के  
 (iv) पूर्ण प्रतियोगिता में कार्य का समय  
 (v) पूर्ति का नियम  
 (vi) पूर्ति का विस्तार  
 (vii) पूर्ति का संकुचन  
 (viii) स्टॉक  
 (ix) पूर्ति कालिका  
 (x) पूर्ण प्रतियोगिता में मूल्य निर्धारण

#### खण्ड ब

- (अ) मांग तथा पूर्ति द्वारा  
 (ब) वस्तु की विभिन्न कीमतों पर बेची जाने वाली मात्रा  
 (स) वस्तु की वह मात्रा जो पास मौजूद है।  
 (द) कम कीमत पर कम पूर्ति  
 (इ) ऊँची कीमत पर अधिक पूर्ति  
 (फ) कीमत एवं पूर्ति में सीधा संबंध  
 (य)  $MR=AR$   
 (र) TP  
 (ल) AR  
 (व) क्रेता-विक्रेता की अधिक मांग

### प्र.4 एक शब्द/वाक्य में उत्तर लिखिये -

- (i) एक वस्तु की अतिरिक्त इकाई बेचने से कुल आगम में जो वृद्धि होती है उसे क्या कहते हैं। (ii) पूर्ण प्रतियोगिता में एक फर्म का साम्य कहा होता है।  
 (iii) बाजार में एक वस्तु के क्रेता-विक्रेता की अधिक संख्या किस प्रकार के बाजार की विशेषता है।  
 (iv) पूर्ति का नियम किनके बीच धनात्मक संबंध को बताता है।  
 (v) पूर्ति की कीमत लोच कितने प्रकार की होती है।  
 (vi) जब कीमत एवं पूर्ति समानुपात में परिवर्तित होती है तो उसे वह किस प्रकार की लोच कहलाती है।  
 (vii) मूल्यहास क्या है ?  
 (viii) प्रति इकाई लाभ का सूत्र लिखिये।  
 (ix) लाभ अधिकतम करने की शर्तें क्या हैं।  
 (x) कुल आगम का सूत्र लिखिये।

### प्र.5 सत्य/असत्य बताइये -

- (i) पूर्ति का संकुचन बताता है कि अधिक कीमत पर कम पूर्ति।
- (ii) सामान्य वस्तुओं के लिए पूर्ति वक्र बढ़ते ढाल वाला होता है।
- (iii) अधिक कीमत पर स्टॉक पूर्ति बाजार में पूर्ति अधिक होती है।
- (iv) पूर्ति का नियम कीमत तथा पूर्ति के बीच विपरित संबंध को बताता है।
- (v) वस्तु की समान कीमत पूर्ण प्रतियोगिता की विशेषता है।
- (vi) कुल लाभ = कुल आगम < कुल लागत होता है।
- (vii) प्रति इकाई लाभ =  $\frac{\text{कुललाभ}}{\text{कुल उत्पादन}}$
- (viii) पूर्ति की कीमत लोच की तीन श्रेणियां होती हैं।
- (ix) पूर्णतया लोचदार पूर्ति को  $es = oc$  से प्रदर्शित करते हैं।
- (x) पूर्णतया बेलोचदार पूर्ति को  $es = o$  से प्रदर्शित करते हैं।

### प्र.6 लघु उत्तरीय प्रश्न -

1. पूर्ण प्रतिस्पर्धा की तीन विशेषताएं लिखिये?
2. पूर्ण प्रतिस्पर्धा एक काल्पनिक स्थिति है। समझाइये?
3. लाभ अधिकतमीकरण को समझाइये?
4. पूर्ति का नियम चित्र द्वारा समझाइये?
5. एक फर्म की पूर्ति वक्र को निर्धारित करने वाले तीन तत्वों को लिखिये?
6. बाजार पूर्ति वक्र किसे कहते हैं? समझाइये?
7. पूर्णतया बेलोचदार पूर्ति को चित्र की सहायता से समझाइये?
8. पूर्णतया लोचदार पूर्ति को चित्र की सहायता से समझाइये?
9. औसत सम्प्राप्ति तथा सीमांत सम्प्राप्ति को समझाइये?
10. पूर्ति का नियम लिखिये?
11. सामान्य लाभ किसे कहते हैं?
12. असामान्य लाभ का अर्थ स्पष्ट कीजिये?
13. बाजार पूर्ति वक्र किसे कहते हैं?
14. पूर्ति की लोच का अर्थ लिखिए?
15. पूर्ण प्रतियोगिता बाजार किसे कहते हैं?
16. फर्म के सन्तुलन बिन्दु पर MR वक्र MC वक्र को नीचे से क्यों करना चाहिये?
17. पूर्ति की लोच को कौन-कौन से घटक प्रभावित करते हैं?
18. पूर्ति की कीमत लोच की विभिन्न श्रेणियों को रेखाचित्र द्वारा स्पष्ट कीजिये?
19. उत्पादन अवधि कितनी अधिक होगी वस्तु की पूर्ति उतनी ही अधिक लोचदार होगी कैसे?
20. एक पूर्ण प्रतियोगिता बाजार में फर्म कीमत स्वीकार होती तो समझाइये?
21. अल्पकाल में एक फर्म का पूर्ति वक्र किस प्रकार का होता है?
22. दीर्घकाल में एक फर्म का पूर्ति वक्र किस प्रकार का होता है?
23. निम्न तालिका में एक प्रतिस्पर्धी फर्म की कुल लागत सारणी को दर्शाया गया है। वस्तु की कीमत 10/- दी हुई है। प्रत्येक स्तर पर लाभ की गणना कीजिये।

उत्पादन	0	1	2	3	4	5	6	7	8	9	10
लागत	5	15	22	27	31	38	49	63	81	101	123

24. निम्न तालिका में एक प्रतिस्पर्धी फर्म की कुल सम्प्राप्ति तथा कुल लागत सारणियों को दर्शाया गया है। प्रत्येक उत्पादन स्तर पर लाभ की गणना कीजिये।

बेची गई मात्रा	0	1	2	3	4	5	6	7
कुल सम्प्राप्ति	0	5	10	15	20	25	30	35
कुल लागत	5	7	10	12	15	23	33	40
लाभ	-	-	-	-	-	-	-	-

25. पूर्ण प्रतियोगिता बाजार में निम्नलिखित का प्रभाव स्पष्ट कीजिये।

(अ) बड़ी संख्या में विक्रेता (ब) समरूप उत्पाद

### अध्याय-5 बाज़ार संतुलन

वस्तुनिष्ठ 1 अंक	अंकवार प्रश्नों की संख्या			इकाई पर आवंटित अंक
	2 अंक	3 अंक	4 अंक	
02	02	-	-	06

प्र.1 सही विकल्प लिखिये -

- (i) बाजार की निम्नलिखित में से कौन सी विशेषता है -  
 (अ) एक क्षेत्र (ब) क्रेता तथा विक्रेताओं की उपस्थिति  
 (स) वस्तु का एक मूल्य (द) उपरोक्त सभी
- (ii) निम्नलिखित में से पूर्ण प्रतियोगिता की विशेषता नहीं है -  
 (अ) क्रेता, विक्रेताओं की अत्यधिक संख्या (ब) वस्तु की एकरूपता  
 (स) विज्ञापन तथा विक्रय लागते (द) बाजार का पूर्ण ज्ञान
- (iii) बाजार मूल्य संबंधित होता है -  
 (अ) अति अल्पकालीन मूल्य से (ब) सामान्य मूल्य से  
 (स) स्थायी मूल्य से (द) इनमें से सभी
- (iv) किसी वस्तु का मूल्य निर्धारित होता है -  
 (अ) मांग द्वारा (ब) पूर्ति द्वारा  
 (स) मांग एवं पूर्ति द्वारा (द) सरकार द्वारा
- (v) कीमत उस बिन्दु पर निर्धारित होती है जहाँ -  
 (अ) वस्तु की मांग अधिक हो (ब) वस्तु की पूर्ति अधिक हो  
 (स) वस्तु की मांग तथा पूर्ति बराबर हो (द) इनमें से कोई नहीं
- (vi) साम्य कीमत का निर्धारण निम्न में से किसके द्वारा स्थापित होता है -  
 (अ) मांग (ब) पूर्ति  
 (स) अ तथा ब दोनों (द) इनमें से कोई नहीं
- (vii) अति अल्पकाल में पूर्ति होगी -  
 (अ) पूर्णतः लोचदार (ब) पूर्णतः बेलोचदार  
 (स) लोचदार (द) कोई नहीं
- (viii) साधनों की मांग होती है -

- (अ) प्रत्यक्ष (ब) अप्रत्यक्ष  
 (स) उत्पादकता द्वारा (द) कोई नहीं  
 (ix) मजदूरी तथा श्रम की पूर्ति के बीच संबंध होता है -  
 (अ) सीधा (ब) विपरित  
 (स) ऋणात्मक (द) कोई नहीं  
 (x) कृषि वस्तुओं के लिए कीमत निम्नतम सीमा को क्या कहा जाता है -  
 (अ) न्यूनतम समर्थन मूल्य (ब) अधिकतम समर्थन मूल्य  
 (स) आधार कीमत (द) उपरोक्त में से कोई नहीं

### प्र.2 रिक्त स्थान भरिए -

- (i) पूर्ण प्रतियोगिता में विक्रेता ..... वस्तुएं बेचते हैं।  
 (ii) पूर्ण प्रतियोगिता में फर्म का मांग वक्र ..... लोचदार होता है।  
 (iii) ..... बाजार में फर्म कीमत प्राप्तकर्ता होता है।  
 (iv) वस्तु की कीमत का निर्धारण दोनो मांग एवं ..... वक्रों से होता है।  
 (v) दीर्घकालीन कीमत को .....कीमत कहा जाता है।  
 (vi) ..... कीमत उच्चावचन वाली प्रक्रिया है।  
 (vii) जिस कीमत पर मांग एवं पूर्ति बराबर होते हैं उसे कौन सी कीमत कहते हैं।  
 (viii) साधनों की मांग ..... मांग होती है।  
 (ix) मजदूरी एवं श्रम की पूर्ति के बीच ..... संबंध होता है।  
 (x) श्रम की मांग उसकी ..... पर निर्भर करती है।

### प्र.3 सही जोड़ियाँ बनाइये -

- | खण्ड अ   | खण्ड ब               |
|--|----------------------|
| (i) साम्य कीमत   | (अ) पूर्णतः बेलोचदार |
| (ii) कीमत उच्चतम सीमा पूर्ति द्वारा                    | (ब) श्रम की मांग तथा |
| (iii) कीमत निम्नतम सीमा बाज़ार पूर्ति                  | (स) बाजार मांग =     |
| (iv) वस्तु की मांग                                     | (द) अति अल्पकालीन    |
| (v) वस्तु की पूर्ति                                    | (इ) उत्पादक द्वारा   |
| (vi) बाजार मूल्य की अवधि                               | (फ) उपभोक्ता द्वारा  |
| (vii) बाजार संतुलन                                     | (य) PFL              |
| (viii) मजदूरी दर का निर्धारण                           | (र) PCL              |
| (ix) कीमत निर्धारण में समय तत्व का विचार प्रस्तुत किया | (ल) मांग = पूर्ति    |
| (x) अति अल्प काल में पूर्ति होगी                       | (व) प्रो. मार्शल     |

### प्र.4 एक शब्द/वाक्य में उत्तर लिखिये -

1. किसी वस्तु की कीमत निर्धारण में दो महत्वपूर्ण शक्तियाँ कौनसी हैं?
2. वस्तु की मांग किसके द्वारा की जाती है?
3. लगान क्या है?
4. वस्तु की पूर्ति किसके द्वारा की जाती है?



5. अति अल्पकालीन मूल्य को क्या कहते हैं?
6. कृषि वस्तुओं के लिए कीमत निम्नतम सीमा को क्या कहा जाता है?
7. साधनों की मांग किस प्रकार की मांग होती है?
8. श्रमिकों की मांग किस पर निर्भर करती है?
9. बाजार में वस्तु की कीमत किस बिन्दू पर निर्धारित होती है?
10. किसने कीमत निर्धारण प्रक्रिया में समय तत्व का विचार प्रस्तुत किया?

**प्र.5 सत्य/असत्य लिखिये -**

- (i) साधनों की मांग प्रत्यक्ष मांग कहलाती है।
- (ii) मजदूरी एवं श्रम की पूर्ति के बीच विपरीत संबंध होता है।
- (iii) श्रम की मांग श्रमिकों द्वारा की जाती है।
- (iv) पूर्ण प्रतियोगिता बाजार में संतुलन वहां होता है जहां बाजार मांग तथा बाजार पूर्ति बराबर होते हैं।
- (v) कीमत उस बिंदु पर निर्धारित होती है जहाँ वस्तु की मांग अधिक हो वस्तु की पूर्ति से।
- (vi) अति अल्पकाल में पूर्ति पूर्णतः बेरोचदार होती है।
- (vii) बाजार मूल्य का सम्बन्ध दीर्घकाल से है।
- (viii) सामान्य मूल्य का संबंध अति अल्पकाल से होता है।
- (ix) संतुलन वह अवधारणा है जिसमें परिवर्तन की कोई प्रवृत्ति नहीं पायी जाती है।
- (x) संतुलन कीमत वह कीमत होती है जहाँ क्रेता वस्तु खरीदने के किये तैयार हो परन्तु विक्रेता वस्तु बेचने को तैयार नहीं है।

**प्र.6. अति लघुउत्तरीय प्रश्न -**

1. बाजार का अर्थ लिखिये?
2. बाजार के प्रमुख तत्व लिखिये?
3. संतुलन कीमत किसे कहते हैं?
4. बाजार में किसी वस्तु के लिए अधिमांग का अर्थ लिखिए?
5. बाजार में किसी वस्तु के लिए अधिपूर्ति का अर्थ लिखिए?
6. मजदूरी की दर का निर्धारण कहा होता है?
7. उच्चतम निर्धारित कीमत किसे कहते हैं?
8. निम्नतम निर्धारित कीमत किसे कहते हैं?
9. व्युत्पन्न मांग किसे कहते हैं?
10. ब्याज क्या है। क्या होगा यदि बाजार में प्रचलित मूल्य है -  
(i) संतुलन कीमत से अधिक (ii) संतुलन कीमत से कम
11. अधिमांग तथा अधिपूर्ति में अंतर समझाइये?
12. पूर्ति में वृद्धि से कीमत कैसे प्रभावित होती है?
13. मांग में कमी से कीमत कैसे प्रभावित होती है?
14. कीमत प्राप्तकर्ता फर्म क्या होती है ?
15. बाजार मूल्य निर्धारण क्या है?
16. सामान्य मूल्य निर्धारण क्या है?
17. कीमत उच्चतम सीमा तथा कीमत निम्नतम सीमा में अंतर बताइये?
18. हम कैसे कहेंगे कि बाजार में किसी वस्तु के लिए अधिमांग है?

19. हम कैसे कहेंगे कि बाजार में किसी वस्तु के लिए अधिपूर्ति है?  
20 बाजार संतुलन का आशय समझाइए 1

भाग -2

समष्टि अर्थशास्त्र ( MACRO ECONOMICS )  
अध्याय -1 ( समष्टि अर्थशास्त्र एक परिचय)

वस्तुनिष्ठ	अंकवार प्रश्नों की संख्या			इकाई पर आवंटित अंक
1 अंक	2 अंक	3 अंक	4 अंक	
02	-	-	-	02

प्र.1 सही विकल्प चुनकर लिखिए -

- (i) समष्टि अर्थशास्त्र में अध्ययन किया जाता है -  
(अ) व्यक्तिगत परिवार का (ब) समग्र का  
(स) व्यक्तिगत फार्म का (द) व्यक्तिगत इकाई का
- (ii) समूह की बनावट पर ध्यान न देना किस अर्थशास्त्र की प्रमुख समस्या है -  
(अ) व्यष्टि अर्थशास्त्र (ब) समष्टि अर्थशास्त्र  
(स) दोनों की (द) किसी की नहीं
- (iii) सामान्य कीमत स्तर का अध्ययन विषय सामग्री है।  
(अ) व्यष्टि अर्थशास्त्र की (ब) समष्टि अर्थशास्त्र की  
(स) दोनों (द) दोनों में से कोई नहीं
- (iv) समष्टि अर्थशास्त्र अस्तित्व में आया -  
(अ) 1929 के बाद (ब) 1950 के बाद  
(स) 1935 के बाद (द) 1901 के बाद
- (v) आर्थिक इकाई हो सकते हैं -  
(अ) केवल उपभोक्ता (ब) केवल उत्पादक  
(स) सरकार, निगम, बैंक (द) सभी
- (vi) पारिवारिक क्षेत्रक कहते हैं -  
(अ) फर्म को (ब) सरकार को  
(स) फर्म और सरकार के अतिरिक्त दूसरा बड़ा क्षेत्र (द) सभी को
- (vii) विदेशी क्षेत्र का अन्य नाम क्या है -  
(अ) बाह्य क्षेत्र (ब) उत्पादन क्षेत्र  
(स) विश्व क्षेत्र (द) ए और बी दोनों
- (viii) परिवार क्षेत्र की मुख्य भूमिका क्या है -  
(अ) उपभोग (ब) निवेश  
(स) उत्पादन (द) आयात
- (ix) सामूहिकता शामिल है -  
(अ) व्यष्टि अर्थशास्त्र (ब) समष्टि अर्थशास्त्र  
(स) दोनों (द) दोनों में से कोई नहीं

प्र.2 रिक्त स्थान की पूर्ति कीजिए।

- (i) राष्ट्रीय आय का अध्ययन व्यष्टि दृष्टिकोण से नहीं बल्कि .....  
दृष्टिकोण से किया जा सकता है।
- (ii) समष्टि अर्थशास्त्र को ..... अर्थशास्त्र भी कहते हैं।

- (iii) समग्र के समूहों या इकाइयों में परस्पर .....पाई जाती है।  
 (iv) ..... अर्थशास्त्र के निष्कर्ष सामूहिक या बड़े योगों पर लागू नहीं किया जा सकता है।  
 (v) ..... को समष्टि दृष्टिकोण के विकास का श्रेय दिया जाता है।  
 (vi) विजातीय समूहों की समस्या ..... अर्थशास्त्र में पाई जाती है।  
 (vii) पूंजीवादी अर्थव्यवस्था को ..... भी कहा जाता है।  
 (viii) आर्थिक महामंदी ..... में उत्पन्न हुई।  
 (ix) प्रो. जे. एम. कीन्स की किताब 'रोजगार एवं मुद्रा का सामान्य सिद्धांत ..... में प्रकाशित हुई।  
 (X) ..... संपूर्ण अर्थव्यवस्था से संबंधित है।

### प्र.3 सही जोड़ी बनाइये -

"A"	"B"
(i) राष्ट्रीय आय एवं रोजगार	(अ) कीन्स
(ii) व्यक्तिगत फर्म	(ब) ग्रीक भाषा से लिया गया है
(iii) समष्टि अर्थशास्त्र	(स) समष्टि दृष्टिकोण
(iv) व्यष्टि अर्थशास्त्र	(द) एक दूसरे के पूरक
(v) व्यष्टि एवं समष्टि अर्थशास्त्र	(फ) व्यष्टि दृष्टिकोण
(vi) मेक्रो शब्द है	(ज) अंग्रेजी भाषा से लिया गया है

### प्र.4 एक शब्द / एक वाक्य में उत्तर दीजिए -

- (i) 'मेक्रो' शब्द किस अर्थशास्त्र से संबंधित है?  
 (ii) समष्टि अर्थशास्त्र का एक दोष लिखिए?  
 (iii) समष्टि अर्थशास्त्र कब अस्तित्व में आया?  
 (iv) व्यापार चक्र का अध्ययन किस अर्थशास्त्र में किया जाता है?  
 (v) राष्ट्रीय स्तर पर या बड़े समूहों के समस्या को हल करने में कौन सा अर्थशास्त्र उपयुक्त है?  
 (vi) व्यष्टि और समष्टि अर्थशास्त्र का एक दूसरे से क्या संबंध है?  
 (vii) आधुनिक अर्थशास्त्र का जनक किसे माना जाता है?  
 (viii) आर्थिक एजेंट किसे कहते हैं?  
 (ix) मजदूरी की दर किसे कहते हैं?

### प्र.5 सत्य / असत्य बताइए -

- (i) बेरोजगारी का विश्लेषण व्यष्टि अर्थशास्त्र से संबंधित है।  
 (ii) किसी वस्तु का मूल्य निर्धारण व्यष्टि अर्थशास्त्र के अध्ययन का विषय है।  
 (iii) सूक्ष्म अध्ययन समष्टि अर्थशास्त्र से संबंधित है।  
 (iv) विजातीय समूहों की समस्या व्यष्टि अर्थशास्त्र में पाई जाती है।  
 (v) व्यष्टि और समष्टि अर्थशास्त्र एक दूसरे के प्रतियोगी होते हैं।  
 (vi) व्यक्तिगत इकाइयों का अध्ययन व्यष्टि अर्थशास्त्र में किया जाता है।  
 (vii) किसी फर्म का उत्पादन एक समष्टि चर नहीं है।

(viii) लाभ अधिकतम करने वाली फर्म एक आर्थिक एजेंट नहीं है।

### अध्याय - 2 राष्ट्रीय आय का लेखांकन

वस्तुनिष्ठ	अंकवार प्रश्नों की संख्या			इकाई पर आवंटित अंक
1 अंक	2 अंक	3 अंक	4 अंक	
04	02	-	-	08

#### प्र.1 सही विकल्प चुनकर लिखिए -

- (i) स्टॉक में किसको शामिल करेंगे -
- (अ) मुद्रा की मात्रा (ब) धन  
(स) गोदाम में रखे गेहूं की मात्रा (द) उपर्युक्त सभी
- (ii) परिवार, फर्मों को कौन सी सेवाएं प्रदान करते हैं -
- (अ) भूमि (ब) श्रम  
(स) पूंजी एवं उद्यम (द) सभी
- (iii) निम्न में मध्यवर्ती वस्तु है -
- (अ) टी.वी. (ब) मशीन  
(स) लकड़ी (द) कोयला
- (iv) एक देश की भौगोलिक सीमाओं में एक वर्ष में उत्पादित सभी वस्तुओं और सेवाओं के मूल्यों का योग कहलाता है।
- (अ) सकल घरेलू उत्पाद (ब) सकल राष्ट्रीय उत्पाद  
(स) विशुद्ध घरेलू उत्पाद (द) विशुद्ध राष्ट्रीय उत्पाद
- (v) सकल घरेलू उत्पाद की गणना जब वर्तमान कीमतों के आधार पर की जाती है तो कहलाती है -
- (अ) वास्तविक GDP (ब) मौद्रिक GDP  
(स) विशुद्ध राष्ट्रीय उत्पाद (द) विशुद्ध घरेलू उत्पाद
- (vi) उत्पादन मूल्य की गणना करते समय मूल्य लिया जाता है -
- (अ) प्राथमिक अवस्था का (ब) मध्यवर्ती उपभोग का  
(स) अंतिम वस्तु का (द) किसी का नहीं
- (vii) तीन क्षेत्रीय मॉडल में निम्नलिखित में कौन शामिल है -
- (अ) परिवार (ब) फर्म  
(स) सरकार (द) उपर्युक्त सभी
- (viii) घिसावट व्यय किसमें शामिल रहता है -
- (अ) GNPmp (ब) NNPmp  
(स) NNPFc (द) किसी में नहीं
- (ix) निम्नलिखित में से कौन सा हस्तांतरण भुगतान नहीं है -
- (अ) राष्ट्रीय ऋण पर ब्याज (ब) सेवानिवृत्ति पेंशन  
(स) वृद्धावस्था पेंशन (द) दान
- (x) कर्मचारियों के पारिश्रमिक में शामिल होता है -
- (अ) नगदी के रूप में मजदूरी और वेतन (ब) किस्म के रूप में मजदूरी और वेतन

(स) सेवानिवृत्ति पर पेंशन (द) उपर्युक्त सभी

**प्र.2 रिक्त स्थान की पूर्ति कीजिए -**

- (i) राष्ट्रीय आय लेखा प्रणाली के जन्मदाता..... है।  
(ii) उपभोक्ता वस्तुएं .....उत्पाद होती है।  
(iii) दोहरी गणना की समस्या से बचने के लिए ..... का प्रयोग किया जाता है।  
(iv) सकल घरेलू उत्पाद-मूल्य ह्रास = ..... ।  
(v) व्यय विधि को ..... विधि भी कहा जाता है।  
(vi) कर्मचारियों का पारिश्रमिक की गणना ..... विधि में की जाती है।  
(vii)  $NDP_{FC} = NDP_{MP} - . . . . .$   
(viii) टंकी में रखा पानी ..... का एक उदाहरण है।  
(ix) ..... के कारण सकल घरेलू उत्पाद तथा शुद्ध घरेलू उत्पाद में अंतर होता है।  
(x) राष्ट्रीय आय में केवल ..... की आय को सम्मिलित किया जाता है।

**प्र.3 सत्य / असत्य बताइए -**

- (i) सेवाओं का संग्रह किया जा सकता है।  
(ii) वर्तमान समय में कोई भी अर्थव्यवस्था बंद अर्थव्यवस्था नहीं है।  
(iii) लॉटरी से प्राप्त आय राष्ट्रीय आय का हिस्सा होती है।  
(iv) भारत में स्थित विश्व स्वास्थ्य संगठन में काम करने वाले भारतीय भारत के सामान्य निवासी है।  
(v) स्टॉक का संबंध समय अवधि से होता है।  
(vi) राष्ट्रीय पूंजी में सेवाएं शामिल होती हैं।  
(vii) हस्तांतरण आए राष्ट्रीय आय के आकलन में शामिल की जाती है क्योंकि यह कारक सेवाओं को अर्पित करने के लिए पुरस्कार है।  
(viii) सेवानिवृत्ति पेंशन एक विलंबित मजदूरी जैसी होती है।  
(ix) गैर टिकाऊ उपभोक्ता वस्तुओं का कई वर्षों तक बार-बार प्रयोग किया जाता है।  
(x) खेती करने वाले परिवारों द्वारा स्वयं ही चावल का उत्पादन करने तथा उपभोग करने को राष्ट्रीय आय में शामिल नहीं किया जाता।

**प्र.4 सही जोड़ी बनाइये -**

- | "A"                        | "B"                             |
|----------------------------|---------------------------------|
| (i) राष्ट्रीय पूंजी        | (अ) एक प्रवाह                   |
| (ii) स्टॉक में परिवर्तन    | (ब) शेष विश्व से आर्थिक लेनदेन  |
| (iii) राष्ट्रीय आय         | (स) एक स्टॉक                    |
| (iv) खुली अर्थव्यवस्था     | (द) अंतिम स्टॉक प्रारंभिक स्टॉक |
| (v) आय विधि                | (फ) कारक भुगतान विधि            |
| (vi) घरेलू आय              | (य) व्यक्तिगत आय                |
| (vii) सकल राष्ट्रीय उत्पाद | (र) $NNP + \text{मूल्य ह्रास}$  |

**प्र.5 एक शब्द / एक वाक्य में उत्तर दीजिए -**

- (i) समय के विशेष बिंदु पर मापी गई मात्रा को क्या कहते हैं?
- (ii) घिसावट व्यय का एक अन्य नाम क्या है?
- (iii) GDP का पूरा नाम लिखिए?
- (iv) किसी देश में राष्ट्रीय आय की गणना सामान्यतः कितने वर्षों के लिए की जाती है?
- (v) कृषि को किस क्षेत्र में शामिल किया जाता है?
- (vi) उत्पाद विधि का एक अन्य नाम क्या है?
- (vii) मौद्रिक प्रवाह का एक उदाहरण दीजिए?
- (viii) राष्ट्रीय आय को जनसंख्या से भाग करने पर क्या प्राप्त होता है।
- (ix) बिजली का सामान कैसी उपभोग वस्तुओं का उदाहरण है?

**प्र.6 अति लघु उत्तरीय प्रश्न -**

1. हस्तांतरण भुगतान क्या है?
2. मध्यवर्ती वस्तु के दो उदाहरण दीजिए?
3. दोहरी गणना की समस्या से कैसे बचा जा सकता है?
4. मिश्रित आय क्या होती है?
5. राष्ट्रीय आय के मापन की उत्पाद विधि से क्या अभिप्राय है?
6. राष्ट्रीय आय के मापन की व्यय विधि से क्या अभिप्राय है?
7. सकल राष्ट्रीय उत्पाद से आप क्या समझते हैं?
8. राष्ट्रीय आय की परिभाषा दीजिए।
9. शुद्ध राष्ट्रीय उत्पाद से क्या समझते हैं?
10. सकल घरेलू उत्पाद से आप क्या समझते हैं?
11. मूल्यहास क्या है?
12. मौद्रिक प्रवाह क्या है?
13. वास्तविक प्रवाह क्या है?
14. आय का चक्रीय प्रवाह क्या है?
15. अर्थव्यवस्था के चारों क्षेत्रों के नाम लिखिए?
16. राष्ट्रीय आय को मापने की विधियों के नाम लिखिए।
17. वृद्धि विधि से क्या अभिप्राय है?
18. बाजार कीमत पर सकल घरेलू उत्पाद की परिभाषा दीजिए?
19. कारक आय की परिभाषा दीजिए?
20. मौद्रिक जीडीपी का क्या अर्थ है?
21. वास्तविक जीडीपी का क्या अर्थ है?
22. एक देश की घरेलू सीमा से क्या अभिप्राय है?
23. एक देश के सामान्य निवासियों से क्या अभिप्राय है?

**अध्याय -3 मुद्रा एवं बैंकिंग**

वस्तुनिष्ठ	अंकवार प्रश्नों की संख्या			इकाई पर आवंटित अंक
1 अंक	2 अंक	3 अंक	4 अंक	
01	01	01	-	06

**प्र.1 सही विकल्प चुनिए -**

- (i) निवेश के निर्धारक घटक कौन-से है -  
 (अ) पूंजी की सीमांत क्षमता (ब) ब्याज की दर  
 (स) अ और ब दोनों (द) इसमें से कोई नहीं
- (ii) विनियोग को मात्रा में वृद्धि होने के साथ-साथ MEC -  
 (अ) बढ़ती है (ब) घटती है  
 (स) स्थिर रहती है (द) इसमें से कोई नहीं
- (iii) निम्नलिखित में से वास्तविक निवेश है -  
 (अ) शेयर खरीदना (ब) पुरानी फैक्ट्री खरीदना  
 (स) भवनों का निर्माण (द) बैंक में जमा खाता खोलना
- (iv)  $APC + APS = \dots\dots\dots?$   
 (अ) 0 (ब) 1  
 (स) अनन्त (द) इसमें से कोई नहीं
- (v) कौन-सा कथन सत्य है -  
 (अ)  $MPC + MPS = 0$  (ब)  $MPC + MPS <$   
 (स)  $MPC + MPS = 1$  (द)  $MPC + MPS >$
- (vi) यदि  $MPC = 0.5$  है तो गुणक (k) होगा -  
 (अ)  $\frac{1}{2}$  (ब) 0  
 (स) 1 (द) 2
- (vii) निम्नलिखित में से मुद्रा का कार्य नहीं है -  
 (अ) विनिमय का माध्यम (ब) कीमत स्थिरता  
 (स) मूल्य संचय (द) लेखा की ईकाई
- (viii) मुद्रा वह है जो मुद्रा का कार्य करें' - यह किसका कथन है?  
 (अ) हर्टले ब्रदर्स (ब) मालथस  
 (स) राबिन्स (द) कीन्स
- (ix) भारतीय रिजर्व बैंक का राष्ट्रीयकरण कब हुआ -  
 (अ) 1945 (ब) 1959  
 (स) 1947 (द) 1949
- (x) किस विधि से हम बैंक से मुद्रा निकाल सकते हैं -  
 (अ) आहरण पत्र (ब) चेक  
 (स) ATM (द) इसमें से सभी
- (xi) व्यवसायिक बैंक-  
 (अ) जमा स्वीकार करते हैं (ब) ऋण प्रदान करते हैं  
 (स) लाकर की सुविधा देते हैं (द) इनमें से सभी
- (xii) ATM का पूर्ण रूप क्या है -  
 (अ) आटोमेटेड टेलर मशीन (ब) एनी टाइम मनी  
 (स) आल टाइम मनी (द) इसमें से सभी
- (xiii) साख गुणक होता है -  
 (अ)  $\frac{1}{CRR}$  (ब)  $नकद \times \frac{1}{CRR}$   
 (स)  $नकद \times CRR$  (द) इनमें से कोई नहीं

(xiv) सेन्ट्रल बैंक आफ इंडिया क्या है -

- (अ) व्यापारिक बैंक (ब) केन्द्रीय बैंक  
(स) ग्रामीण बैंक (द) सहकारी बैंक

(xv) व्यापारिक बैंक का एजेन्सी कार्य क्या है -

- (अ) ऋण देना (ब) जमा स्वीकार करना  
(स) ट्रस्टी का कार्य (द) लाकर सुविधा देना

(xvi) भारत का केन्द्रीय बैंक निम्नलिखित में से कौन सा है -

- (अ) RBI (ब) PNB  
(स) SBI (द) UBI

(xvii) केन्द्रीय बैंक के निम्नलिखित में से कौन-से कार्य है -

- (अ) नोट निर्गमन का अधिकार (ब) सरकार का बैंकर  
(स) बैंको का बैंक (द) उपयुक्त सभी

**प्रश्न.2) एक शब्द में उत्तर दीजिए -**

1. मूल्य का संचय मुद्रा का कौन सा कार्य है?
2. मुद्रा का आविष्कार ने किस प्रणाली के दोषों का निराकरण किया?
3. मुद्रास्फीति में मुद्रा का प्रचलन वेग केसा होता है?
4. तरल कोषानुपात बढ़ाने से मुद्रा की पूर्ति पर क्या प्रभाव पड़ेगा?
5. चालू खाते में ब्याज दर ऊंची होती है?
6. नकद कोष अनुपात बढ़ाने से साख निर्माण पर क्या प्रभाव पड़ेगा?
7. साख का निर्माण कौन करता है?
8. कागजी मुद्रा के निर्गमन का अधिकार किसे होता है?
9. भारतीय बैंकिंग व्यवस्था का शीर्षस्थ बैंक कौन सा बैंक है?
10. क्या रिजर्व बैंक रु 1 के नोट का निर्गमन करता है?

**प्रश्न.3) सही जोड़ियाँ बनाइये -**

खण्ड अ	खण्ड ब
(i) रिजर्व बैंक का वर्जित कार्य	(अ) MSE दर
(ii) रेपो पर से 0.25 प्रतिशत अंक अधिक	(ब) अस्थायी व्यवस्था
(iii) बैंको का नियमन होता है	(स) व्यापारिक बैंक
(iv) अधिविकर्ष	(द) साख जमाएँ
(v) जमा स्वीकार करना	(इ) जमाओ पर ब्याज देना
(vi) मुद्रा का प्राथमिक कार्य	(फ) बैंकिंग अधिनियम 1949
(vii) व्युत्पन्न निक्षेप	(य) स्थायी व्यवस्था
(viii) नकद साख	(र) मूल्य का हस्तारण
(ix) रिजर्व बैंक की स्थापना	(ल) 1935
(x) मुद्रा का गौण कार्य	(व) मूल्य का मापक

**प्रश्न.4) अति लघु उत्तरीय प्रश्न -**

1. केन्द्रीय बैंक की परिभाषा दें 1
2. एक देश का केन्द्रीय बैंक किन रीतियों से साख को नियंत्रित करता है?



3. नकद कोष अनुपात का अर्थ बताइए ।
4. RBI के कार्य लिखिए?
5. बैंक दर तथा ब्याज दर में क्या अंतर है?
6. केन्द्रीय बैंक किसके द्वारा साख पर नियंत्रण रखता है?
- 7 मुद्रा की परिभाषा दीजिये?
8. बैंक दर से क्या आशय है?
9. रेपो रेट का अर्थ समझिये 1
10. रिवर्स रेपो रेट से आप क्या समझते है ?
11. वस्तु विनिमय का आशय बताइए 1
- 12 . वैधानिक मुद्रा क्या है?

प्रश्न.5) लघु उत्तरीय प्रश्न -

1. केन्द्रीय बैंक के कार्यों को समझाइए 1
2. केन्द्रीय बैंक के वर्जित कार्य क्या है?
3. केन्द्रीय बैंक तथा व्यापारिक बैंक में अंतर दीजिये ?
4. भारत में बैंकों का महत्व समझाइए 1
5. मुद्रा के आर्थिक दोष क्या है ?
6. अच्छी मुद्रा के गुण लिखिए और समझाइए 1
7. मुद्रा वह धुरी है जिसके चारों ओर अर्थ विज्ञान चक्कर लगता है। समझाइए 1
8. मुद्रा के कार्यों को समझाइए 1
9. वस्तु विनिमय प्रणाली की कठनईया लिखिए 1
10. वर्तमान युग मुद्रा युग है। समझाइए 1
11. मुद्रा प्रसार को नियंत्रित करने के उपाय बताइए 1
12. विमुद्रीकरण के प्रभाव समझाइए?
13. धातु मुद्रा पत्र मुद्रा से किन बातों में भिन्न है ? किन्ही तीन बातों को बताकर तुलना कीजिये 1
14. मुद्रा के पूर्तिकर्ता भारत में कौन कौन है। समझाइए 1
15. व्यावसायिक बैंकों के कार्य बताइए?

#### अध्याय - 4 आय एवं रोजगार का निर्धारण

वस्तुनिष्ठ	अंकवार प्रश्नों की संख्या			इकाई पर आवंटित अंक
1 अंक	2 अंक	3 अंक	4 अंक	
06	03	-	-	12

प्रश्न. 01) सही विकल्प चुनकर लिखिए

(i). "पूर्ति अपनी मांग स्वयं उत्पन्न करती है।" कथन है ।

- |                        |                    |
|------------------------|--------------------|
| (अ) जे बी से. (SAY) का | (ब) जे एस. मिल .का |
| (स) कीन्स का           | (द) रिकॉर्ड ने     |

(ii). जनरल थ्योरी ऑफ एंप्लॉयमेंट इंटररेस्ट एंड मनी नामक पुस्तक के लेखक कौन है

- (अ) पीगू (ब) माल्थस  
(स) जे. एम. कीन्स (द) मार्शल

(iii). कींस का रोजगार सिद्धांत निम्नलिखित में किस पर निर्भर है

- (अ) प्रभावपूर्ण मांग (ब) पूर्ति  
(स) उत्पादन क्षमता (द) इनमें से कोई नहीं

(iv). निवेश के निर्धारक घटक कौन से हैं

- (अ) पूंजी की सीमांत क्षमता (ब) ब्याज की दर  
(स) अ और ब दोनों (द) इनमें से कोई

(v).  $MPC + MPS = \dots\dots\dots$

- (अ) 0 (ब) 1  
(स) अ और ब दोनों (द) इनमें से कोई

(vi). कौन सा कथन सत्य है।

- (अ)  $K = 1/MPC$  (ब)  $K = 1/MPS$   
(स)  $K = 1/1-MPS$  (द)  $K = 1/1+MPS$

(vii). अर्थव्यवस्था के सन्तुलन की शर्त है-

- अ) समस्त माँग = समस्तपूर्ति ब) बचत = निवेश  
स) रिसाव = अंत क्षेपण द) इनमें सभी

(viii). सामूहिक मांग का प्रमुख घटक है

- (अ) व्यक्तिगत उपभोग (ब) सार्वजनिक उपभोग  
(स) विनियोग (द) उपर्युक्त सभी

(ix). उपभोग फलन फलनात्मक संबंध है

- (अ) आय एवं बचत का (ब) आय एवं उपभोग का  
(स) उपभोग एवं बचत का (द) उपर्युक्त में से कोई नहीं

(x). कीन्स के अनुसार समस्त मांग बराबर है

- (अ)  $C+S$  (ब)  $C+I$

(स) C+I+G

(द) C+I+G+X-M

**प्रश्न.02) रिक्त स्थान की पूर्ति कीजिए**

- (i) एक दो क्षेत्रीय बंद अर्थव्यवस्था में ..... तथा उत्पादक क्षेत्र शामिल होते हैं।  
(ii). MPS अतिरिक्त आय की प्रति इकाई ..... को दर्शाती है।  
(iii) .....के नियम जे. बी. से ने दिया ।  
(iv). कींस का ..... न्यून मांग का सिद्धांत भी कहलाता है ।  
(v).  $APS.....= 1$  ।  
(vi). प्रतिष्ठित दृष्टिकोण के अनुसार..... कटौती बेरोजगारी को समाप्त कर सकती है।  
(vii). कींस का रोजगार सिद्धांत ..... पर निर्भर है ।  
(viii)..... अतिरिक्त मांग की माप है ।  
(ix). अर्थव्यवस्था में ..... का बजट बनाकर न्यून मांग को ठीक किया जा सकता है ।  
(x). स्फीतिक अंतराल को नियंत्रित करने के लिए बैंक दर में ..... की जानी चाहिए ।

**प्रश्न 03) सत्य / असत्य बताइए**

- (i). कीन्स का सिद्धांत दीर्घकालीन दृष्टिकोण पर आधारित है।  
(ii). रोजगार के संतुलन स्तर पर भी कुछ श्रमिक बेरोजगार रह सकते हैं।  
(iii). उपभोग फलन अपूर्ण रोजगार साम्य की व्याख्या करता है।  
(iv). भविष्य में ब्याज दर में वृद्धि बचतों को कम कर देती है।  
(v). जिस अनुपात में आय बढ़ती है उसी अनुपात में उपभोग व्यय नहीं बढ़ता है।  
(vi). अपूर्ण रोजगार, अभावी न्यून मांग का परिणाम है।  
(vii). रिकार्डों ने प्रतिपादित किया की पूर्ति स्वयं अपनी मांग सृजित करती है।  
(viii). कीन्स की अर्थव्यवस्था में न्यून मांग की दशा को अपूर्ण रोजगार संतुलन कहा जाता है ।  
(ix). समग्र मांग आय से ऋणरूप से संबंधित है।  
(x). आय का या तो उपभोग कर लिया जाता है या निवेश किया जाता है ।

**प्रश्न 04) सही जोड़ी बनाइये**

	''A''	''B''
i	$1 - APC$	अ MPC
ii	$\Delta C / \Delta Y$	ब APC
iii	$1 + MPC$	स APS
iv	$C / Y$	द MPS
v	$\Delta I / \Delta Y$	क उपभोग बचत
vi	$I / Y$	ख आय -उपभोग
vii	सामूहिक मांग	ग निर्यात - आयात
viii	सामूहिक पूर्ति	घ API
ix	शुद्ध निर्यात	प समष्टि अवधारणा

**प्रश्न .05) एक शब्द / एक वाक्य में उत्तर दीजिए**

- (i) किसने कहा पूर्ति मांग को स्वयं जन्म देती है।  
(ii) कौन सा निवेश आय के प्रति लोचपूर्ण होता है ।  
(iii) रोजगार का परंपरावादी सिद्धांत किस प्रतियोगिता की मान्यता पर आधारित है।  
(iv) कीन्स ने अपने सिद्धांत में किस अर्थव्यवस्था की मान्यता ली है।  
(v) अल्पकाल में प्रभावपूर्ण मांग बढ़ाने हेतु किसे बढ़ाना संभव नहीं होता है।  
(vi) .1- APC के बराबर क्या होता है।  
(vii) पूंजी की सीमांत दर किसके बराबर होती है।  
(viii) पूर्ण रोजगार हेतु किस में वृद्धि आवश्यक होगी।  
(ix) उपभोग फलन का समीकरण क्या है ।  
(x) MPC तथा MPS का संबंध क्या है।

**अति लघु उत्तरीय प्रश्न**

1. उपभोग प्रवृत्ति का क्या अर्थ है?
2. तरलता जाल क्या है?
3. बचत फलन को परिभाषित कीजिए?
4. निवेश फलन का अर्थ बताइए?
5. सामूहिक मांग से क्या अभिप्राय है?
6. सीमांत उपभोग प्रवृत्ति को परिभाषित कीजिए?
7. समग्र पूर्ति से क्या अभिप्राय है?
8. उपभोग तथा आय में क्या संबंध है?
9. प्रभावी मांग से क्या अभिप्राय है?
10. समग्र मांग के दो घटक बताइए?
11. निवेश का तात्पर्य समझाइए?
12. पूर्ण रोजगार को परिभाषित कीजिए?
13. बचत फलन क्या है?
14. अनैच्छिक बेरोजगारी किसे कहते हैं?
15. उपभोग प्रवृत्ति से क्या आशय है?
16. पूर्ण रोजगार क्या है?

**अध्याय -5 सरकारी बजट एवं अर्थव्यवस्था**

वस्तुनिष्ठ	अंकवार प्रश्नों की संख्या			इकाई पर आवंटित अंक
1 अंक	2 अंक	3 अंक	4 अंक	
02	-	-	01	06

**प्र.1 सही विकल्प लिखिये:-**

- (i) केन्द्रीय बजट प्रस्तुत किया जाता है -  
(अ) राज्य सरकार द्वारा (ब) केन्द्र सरकार द्वारा  
(स) स्थानीय सरकार द्वारा (द) केन्द्रशासित सरकार द्वारा
- (ii) सरकारी बजट प्रस्तुत किया जाता है वर्ष में -  
(अ) एक बार (ब) दो बार  
(स) तीन बार (द) कई बार

- (iii) अच्छा बजट माना जाता है -  
 (अ) संतुलित बजट (ब) आधिक्य का बजट  
 (स) घाटे का बजट (द) आर्थिक बजट
- (iv) सरकारी बजट में प्राथमिक घाटा यह होता है -  
 (अ) राजस्व व्यय-राजस्व प्राप्तियाँ (ब) कुल व्यय-कुल प्राप्तियाँ  
 (स) राजस्व घाटा-ब्याज भुगतान (द) राजकोषीय घाटा-ब्याज भुगतान
- (v) प्राथमिक घाटा इनके समान होता है -  
 (अ) ऋण (ब) ब्याज भुगतान  
 (स) ऋण-ब्याज भुगतान (द) ऋण और ब्याज भुगतान दोनों
- (vi) प्रत्यक्ष कर सीधे प्राप्त किया जाता है -  
 (अ) उत्पादको से (ब) विक्रेताओं से  
 (स) क्रेताओं से (द) आय कमाने वालों से
- (vii) संसद में बजट पेश करते हैं -  
 (अ) प्रधानमंत्री (ब) गृहमंत्री  
 (स) वित्तमंत्री (द) रक्षामंत्री
- (viii) बजट का उद्देश्य है-  
 (अ) हिसाब देयता (ब) आर्थिक उपकरण  
 (स) राजकोषीय उपकरण (द) उपर्युक्त सभी
- (ix) सार्वजनिक बजट की अवधि होती है -  
 (अ) दो वर्ष (ब) पाँच वर्ष  
 (स) एक वर्ष (द) दस वर्ष
- (x) जब राजकोषीय घाटे में से ब्याज अदायगियों को घटा दिया जाता है तो यह अन्तर कहलाता है -  
 (अ) बजटीय घाटा (ब) राजस्व घाटा  
 (स) प्राथमिक घाटा (द) मौद्रिक घाटा
- (xi) जब अनुमानित प्राप्तियाँ अनुमानित व्ययों से अधिक दर्शाये जाते हैं तो वह कहलाता है -  
 (अ) संतुलित बजट (ब) आधिक्य का बजट  
 (स) घाटे का बजट (द) उपर्युक्त में से कोई नहीं
- (xii) मुद्रा प्रसार रोकने के लिये किस प्रकार का बजट बनाना चाहिये -  
 (अ) संतुलित बजट (ब) घाटे का बजट  
 (स) अतिरिक्त बजट (द) इनमें से कोई नहीं
- (xiii) राजकोषीय घाटा होता है -  
 (अ) बजटीय घाटा+उधार व अन्य देयतायें  
 (ब) कुल व्यय-(कुल प्राप्तियाँ-उधार व अन्य देयतायें)  
 (स) कुल व्यय-(राजस्व प्राप्तियाँ + अनुदान + गैर राजस्व पूंजीगत प्राप्तियाँ)  
 (द) उपर्युक्त सभी
- (xiv) यदि वित्तीय घाटा एवं उधारिया रू. 100 करोड़ हो तथा ब्याज का भुगतान रू 22 करोड़ हो तो प्राथमिक घाटा होगा -

- (अ) रू 240 करोड़ (ब) रू 120 करोड़  
(स) रू 220 करोड़ (द) रू 78 करोड़

**प्रश्न-2 रिक्त स्थानों की पूर्ति करें -**

- (i) व्याज प्राप्ति ..... राजस्व है।  
(ii) बजट में आय एवं व्यय की ..... राशि दिखाई जाती है।  
(iii) सरकार द्वारा शेयरों में लगाई जाने वाली पूंजी ..... व्यय है।  
(iv) रक्षा, व्याज भुगतान आदि पर किया जाने वाला व्यय ..... व्यय है।  
(v) केन्द्र सरकार का बजट ..... माह के अंतिम दिन प्रस्तुत किया जाता है।  
(vi) बजट सरकार की ..... नीतियों का उपकरण होता है।  
(vii) संसद में रेल बजट ..... के द्वारा प्रस्तुत किया जाता है।  
(viii) बजट के आंकड़े ..... के निकट होते हैं।  
(ix) राजस्व घाटे की आपूर्ति सरकार ..... प्राप्तियों से करती है।  
(x) राजकोषीय घाटे में से यदि उधारियां घटा दी जाये तो ..... व्यय प्राप्त हो जायेगा।  
(xi) राजकोषीय घाटा सरकार की ..... आवश्यकताओं का सूचक है।

**प्रश्न-3 सत्य/असत्य बताइये -**

- (i) केन्द्रीय बजट वित्तमंत्री द्वारा प्रस्तुत किया जाता है।  
(ii) सरकारी बजट 5 वर्षों के लिये तैयार किया जाता है।  
(iii) शिक्षा पर किया गया व्यय विकासात्मक व्यय हैं।  
(iv) घाटे का बजट लाभदायक होता है।  
(v) बजट पर भाषण प्रधानमंत्री द्वारा दिया जाता है।  
(vi) बजट में सरकारी ऋण का समावेश होता है।  
(vii) सार्वजनिक आय तथा सार्वभौमिक व्यय बजट के अवयव होते हैं।  
(viii) वर्तमान में रेल बजट आम बजट के साथ वित्तमंत्री द्वारा प्रस्तुत किया जाता है।  
(ix) व्याज भुगतान योजनागत मद है।  
(x) बजट की अवधि सामान्यतः एक वर्ष होती है।  
(xi) मन्दी के समय आधिक्य का बजट बनाया जाता है।  
(xii) राजस्व घाटा या तो दायित्वों में वृद्धि करता है या संपत्तियों को कम करता है।

**प्रश्न-4 सही जोड़ी मिलाइये -**

खण्ड- 'अ'

- (i) कर राजस्व  
(ii) बजट का उद्देश्य  
(iii) भारत में बजट की स्वीकृति

खण्ड- 'ब'

- (अ) स्टाक एक्सचेंज शेयर  
(ब) पूंजी निर्माण  
(स) आय का व्यय से अधिक होना

- |  |  |
|--|--|
| (iv) रक्षा पर व्यय                         | (द) लोकसभा                                 |
| (v) आधिक्य बजट अंतर                        | (क) राजस्व प्राप्तियों एवं राजस्व व्यय में |
| (vi) प्रतिभूति विनिमय कर                   | (ख) हिसाबदेयता                             |
| (vii) राजस्व घाटा                          | (ग) गैर योजनागत व्यय                       |
| (viii) वित्तीय उत्तरदायित्व एवं बजट अदायगी | (घ) राजकोषीय घाटा-ब्याज                    |

प्रबंधन अधिनियम

- |                                  |                       |
|----------------------------------|-----------------------|
| (ix) घाटे का बजट                 | (प) 2017              |
| (x) प्राथमिक घाटा                | (फ) संतुलित बजट       |
| (xi) जी.एस.टी.                   | (भ) बजटीय प्राप्तियाँ |
| (xii) अनुमानित आय एवं व्यय बराबर | (म) वस्तु और सेवा कर  |

**प्रश्न-5 एक वाक्य में उत्तर दीजिये -**

- (i) सरकार के वर्ष भर के आय-व्यय का विवरण क्या कहलाता है?
- (ii) बजट का एक उद्देश्य लिखिये -
- (iii) घाटे के बजट का एक प्रभाव बताइये।
- (iv) सरकार बजट कितने वर्ष के लिए बनाती है?
- (v) सार्वजनिक आय में सार्वजनिक व्यय की अधिकता क्या कहलाती है?
- (vi) वस्तु एवं सेवा कर किया गया।
- (vii) शिक्षा पर व्यय कैसा व्यय माना जाता है।
- (viii) कागजी कर कौन-कौन प्रस्तुत करता है?
- (ix) सरकारी बजट कौन प्रस्तुत करता है?
- (x) वर्तमान में रेल बजट संसद में किसके द्वारा प्रस्तुत किया जाता है?
- (xi) राजस्व प्राप्तियाँ और राजस्व व्यय में अंतर को क्या कहते हैं?
- (xii) बजटीय घाटे में यदि उधारियों को जोड़ दिया जाये तो क्या प्राप्त होगा?

**प्रश्न-6 निबंधात्मक प्रश्न -**

1. सरकारी बजट को परिभाषित करते हुए उसकी विशेषताओं का वर्णन कीजिये।
2. बजट का अर्थ बताते हुए उसके उद्देश्यों को समझाइए।
3. घाटे के बजट का क्या आशय है? इसके अर्थव्यवस्था पर पड़ने वाले प्रभावों की विवेचना कीजिये।
4. बजट के विभिन्न प्रकारों का वर्णन कीजिये।
5. 'घाटे का बजट लाभदायक होता है' क्यों? समझाइये।
6. घाटे के बजट के गुण एवं दोषों को समझाइये।
7. बजट की प्रमुख मदों को समझाइये।
8. राजस्व एवं राजकोषीय घाटे से क्या अभिप्राय है? इनमें क्या अन्तर है? समझाइये।
9. आधिक्य के बजट का क्या अर्थ है? इसके अर्थव्यवस्था पर पड़ने वाले प्रभावों को विस्तार से समझाइये।
10. बजटीय प्राप्तियों की विवेचना कीजिये।
11. सरकारी व्ययों की विवेचना कीजिये।
12. क्या सार्वजनिक ऋण बोल बनता है? व्याख्या कीजिये।

13. क्या राजकोषीय घाटा आवश्यक रूप से स्फीतिकारी है?
14. सरकारी घाटे एवं सरकारी ऋण ग्रहण में क्या संबंध है? व्याख्या कीजिये।
15. जी.एस.टी से क्या समझते हैं? पुरानी कर व्यवस्था के मुकाबले जीएसटी व्यवस्था कितनी श्रेष्ठ है? इसकी श्रेणियों की व्याख्या कीजिये।
16. बजट से क्या अभिप्राय है? इसकी कोई तीन विशेषतायें बताइये।
17. बजट के प्रमुख तत्व बताइये।
18. बजट के तीन उद्देश्य बताइये।
19. बजट के प्रकारों को समझाइये।
20. राजस्व प्राप्तियों एवं पूंजीगत प्राप्तियों में अन्तर बताइये।
21. योजनागत व्यय और गैर योजनागत व्यय में अन्तर बताइये।
22. सरकार के बजट में दर्शाये जाने वाले विभिन्न प्रकार के घाटों को स्पष्ट कीजिये।
23. पूंजीगत व्यय एवं राजस्व व्यय में क्या भेद है? समझाइये।
24. सार्वजनिक वस्तु सरकार के द्वारा ही क्यों प्रदान की जानी चाहिये? समझाइये।
25. आधिक्य के बजट अर्थव्यवस्था में पड़ने वाले प्रभाव बताइये।
26. घाटे के बजट का अर्थव्यवस्था पर क्या पड़ता है? समझाइये।
27. संतुलित बजट किसे कहते हैं?
28. पप्राथमिक घाटा और वित्तीय घाटे में अंतर समझाइए 1

### अध्याय -6 खुली अर्थव्यवस्था

वस्तुनिष्ठ	अंकवार प्रश्नों की संख्या			इकाई पर आवंटित अंक
1 अंक	2 अंक	3 अंक	4 अंक	
02	-	-	01	06

प्रश्न.1 सही विकल्प चुनकर लिखिए -

- (i) खाते में भुगतान संतुलन रहता है -
  - (अ) असंतुलित
  - (ब) संतुलित
  - (स) कभी संतुलित कभी असंतुलित
  - (द) कोई नहीं
- (ii) अवमूल्यन संभव होता है -
  - (अ) लोचपूर्ण विनिमय दर में
  - (ब) स्थिर विनिमय दर में
  - (स) दोनों में
  - (द) कोई नहीं
- (iii) अदृश्य मदों में निम्न में से किसे शामिल करेंगे।
  - (अ) बैंकिंग
  - (ब) जहाजरानी
  - (स) सूचना
  - (द) सभी
- (iv) व्यापार संतुलन में कौन सी मदें शामिल होती हैं।
  - (अ) अदृश्य मदें
  - (ब) दृश्य मदें
  - (स) दोनों
  - (द) कोई नहीं
- (v) भुगतान शेष क्या दर्शाता है -
  - (अ) निर्यात और आयात का अंतर
  - (ब) पूंजी के आंतरिक तथा बाह्य प्रवाह का अंतर



- (स) एक देश के सभी विदेशी विनिमय तथा बाह्य प्रवाह प्राप्तिओं तथा भुगतान का अंतर (द) विदेशी मुद्रा का आंतरिक अंतर
- (vi) विनिमय दर बढ़ने पर विदेशी मुद्रा की पूर्ति में ..... होता है।  
 (अ) संकुचन (ब) विस्तार  
 (स) कमी (द) वृद्धि
- (vii) यदि अधिक विदेशी भारत में निवेश करने लगे तो भारत की मुद्रा का मूल्य  
 (अ) बढ़ेगा (ब) कम होगा  
 (स) सामान रहेगा (द) इनमें से कोई नहीं
- (viii) वर्तमान में विनिमय दरों के किस रूप को अपनाया जाता है -  
 (अ) स्थिर विनिमय दरों के (ब) नम्य विनिमय दर  
 (स) प्रबंधित तरलशीलता के रूप में (द) उपर्युक्त में से कोई नहीं
- (ix) नम्य विनिमय प्रणाली में विनिमय दर निर्धारित होता है -  
 (अ) देश के मौद्रिक प्राधिकरण द्वारा (ब) स्वर्ण कीमत द्वारा  
 (स) विदेशी विनिमय बाजार की मांग पूर्ति शक्ति द्वारा (द) केंद्रीय बैंक द्वारा
- (x) जिस विनिमय दर पर विदेशी मुद्रा की मांग उसकी पूर्ति के बराबर हो जाए तो उसे कहते हैं-  
 (अ) विनिमय की समानता दर (ब) विनिमय की असंतुलन दर  
 (स) संतुलन दर (द) उपर्युक्त सभी

**प्रश्न.2 रिक्त स्थान की पूर्ति कीजिए -**

- (i) विदेशी प्रत्यक्ष निवेश, भुगतान शेष के ..... खाते का एक अंग होता है।
- (ii) निजी ऋणों का भुगतान ..... खाते की देनदारी प्रविष्ट में आता है।
- (iii) भुगतान ..... शेष की संरचना में दोनों ..... एवं ..... खाते सम्मिलित होते हैं।
- (iv) विदेशी विनिमय की मांग उन लोगों के द्वारा की जाती है, जो वस्तुओं का ..... करते हैं।
- (v) एक देश में कीमतों में अत्यधिक वृद्धि होने पर उसके ..... कम हो जाते हैं।
- (vi) आयातों की तुलना में निर्यातों के बढ़ने पर विदेशी विनिमय दर देश के ..... में परिवर्तित होगी।
- (vii) ..... केवल वस्तुओं के आयात एवं निर्यात का रिकॉर्ड रखता है।
- (viii) पूंजीगत वस्तुओं के निर्यात एवं आयात को ..... खाते में शामिल नहीं किया जाता है।
- (ix) ..... खाता शेष में व्यापार शेष तथा अदृश्य मदों के शेष को सम्मिलित किया जाता है।

(x) भुगतान शेष आधिक्य के कारण सरकारी कोषों में .....  
होती है।

**प्रश्न.3 सत्य / असत्य बताइए -**

- (i) बैंक दर बढ़ने पर विदेशी विनिमय दर देश के पक्ष में हो जाती है।
- (ii) पूंजी का निर्यात करने वालों द्वारा विदेशी विनिमय की पूर्ति की जाती है।
- (iii) यदि देशवासी विदेशों में स्टॉक शेयर क्रय करते हैं तो विदेशी विनिमय दर देश के विपक्ष में हो जाती है।
- (iv) वस्तुओं का निर्यात चालू खाते की देनदारी होती है।
- (v) व्यापार संतुलन में सेवाओं का भुगतान शामिल होता है।
- (vi) भुगतान संतुलन सदैव संतुलित रहता है।
- (vii) पर्यटकों द्वारा व्यय व्यापार शेष में शामिल होता है।
- (viii) भुगतान शेष केवल वस्तुओं से संबंधित लेनदेन को रिकॉर्ड करता है।
- (ix) भुगतान शेष खातों में सरकारी कोषों में वृद्धि को ऋणात्मक चिन्ह द्वारा दर्शाया जाता है।
- (x) व्यापार शेष और भुगतान शेष के चालू खाते के शेष में कोई अंतर नहीं है।

**प्रश्न.4 सही जोड़ी बनाइये -**

"A"	"B"
(i) भुगतान संतुलन	(अ) बीमा
(ii) व्यापार संतुलन	(ब) विनियोग
(iii) चालू खाते की मर्दे	(स) दृश्य मर्दे
(iv) पूंजी खाते की मर्दे	(द) बाजार में माग पूर्ति द्वारा निर्धारित
(v) लोचशील विनिमय दर	(ई) सरकार के द्वारा निर्धारित
(vi) स्थिर विनिमय दर	(फ) दृश्य एवं अदृश्य मर्दों में शामिल किया जायेगा
(vii) पोर्टफोलियो निवेश	(य) भुगतान शेष असंतुलन का कारण
(viii) व्यापार घाटा	(र) अदृश्य मर्दों का एक अंग
(ix) चालू हस्तांतरण	(ल) विदेशी संस्थागत निवेश
(x) स्वायत्त मर्दे	(व) वस्तुओं का निर्यात < वस्तुओं का आयात

**प्रश्न.5 एक शब्द / एक वाक्य में उत्तर दीजिए -**

- (i) आयात-निर्यात की केवल दृश्य मर्दों को किस में शामिल किया जाता है?
- (ii) जब एक भारतीय अमेरिका में शिक्षा पर व्यय करता है तो यह मद भारत के लिए क्या है?
- (iii) भारतीय रुपए के अवमूल्यन से भारतीयों के आपात कैसे हो जाएंगे।
- (iv) भुगतान संतुलन में विदेशी विनिमय की मांग क्यों उत्पन्न होती है।
- (v) बैंक दर बढ़ने पर विदेशी विनिमय दर देश के पक्ष या विपक्ष में किसमें हो जाती है।
- (vi) बाजार शक्तियों द्वारा निर्धारित विदेशी विनिमय दर क्या कहलाती है।
- (vii) व्यापार शेष का आकलन कैसे किया जाता है।
- (viii) भुगतान शेष की दो अदृश्य मर्दों का नाम बताइए।
- (ix) कौन से दो सौदे व्यापार शेष को निर्धारित करते हैं?

(x) वस्तुओं के निर्यात और आयात के मूल्यों के अंतर को क्या कहते हैं?

**प्रश्न. 6 विश्लेषणात्मक प्रश्न (4 अंक)**

1. भुगतान शेष से क्या अभिप्राय है? इसके घटकों के नाम लिखिए।
2. भुगतान संतुलन एवं व्यापार संतुलन में अंतर लिखिए।
3. भुगतान शेष खाते में दृश्य तथा अदृश्य मदों से क्या अभिप्राय है अदृश्य मदों के दो उदाहरण दीजिए?
4. भुगतान शेष सदैव संतुलन में रहता है वर्णन कीजिए?
5. विदेशी विनिमय दर की परिभाषा दीजिए?
6. विदेशी मुद्रा की कीमत और उसकी मांग के बीच वितरित संबंध होने के कारण की व्याख्या कीजिए?
7. रुपए के मूल्य ह्रास से क्या अभिप्राय है इसका भारत के आयातों पर क्या प्रभाव पड़ सकता है और कैसे?
8. रिजर्व बैंक ऑफ इंडिया विदेशी मुद्रा की दर जो बहुत अधिक है को कम करने में कैसे सहायक हो सकती है?
9. भुगतान शेष में असंतुलन के क्या कारण हैं? इसे कैसे ठीक किया जा सकता है।
10. स्थिर विनिमय प्रणाली के गुण दोष लिखिए।
11. नम्य विनिमय प्रणाली के गुण दोष लिखिए।
12. विनिमय की संतुलन दर किसे कहा जाता है ? इसका निर्धारण किस प्रकार होता है।

-----\*\*\*\*\*-----

**उत्तरमाला  
व्यष्टि अर्थशास्त्र**

**अध्याय :-1**

**प्र.1.सही विकल्प चुनिए :-**

i.(अ) ii.(अ) iii.(द) iv.(द) v.(स) vi.(द) v.(स) vi.(द) vii.(स) viii.(द) ix.(स) x.(स)

**प्र.2. रिक्त स्थानों की पूर्ति कीजिये :-**

i.आर्थिक ii.व्यष्टि iii.अवसर iv.क्षमता v.दाये vi.व्यष्टि vii.अधिकतम viii.आर्थिक ix.पूरक x त्यागना

**प्र.3.सही जोड़ी बनाइये:-**

i.(ब) ii (व) iii (अ) iv.(द) v(स) vi.(र) vii. (य) viii (ल) ix (फ) x (इ)

**प्र.4. एक शब्द /वाक्य में उत्तर दीजिये:**

i.आर्थिक ii. सूक्ष्म अर्थशास्त्र iii. समाजवादी iv. पूंजीवादी v.उत्पादन के साधन सीमित और प्रत्येक साधन के वैकल्पित प्रयोग संभव होते हैं vi. बाएँ से दायें vii.एडम स्मिथ viii मिश्रित ix पूरक x व्यापक अर्थशास्त्र

**प्र.5.सत्य/असत्य**

i.असत्य ii. असत्य iii.असत्य iv. सत्य v.सत्य vi. सत्य vii.सत्य viii सत्य ix सत्य x. असत्य

अध्याय :-2.

प्र.1.सही विकल्प चुनिए :-

i. (स) ii (अ) iii (ब) iv. (ब) v. (अ) vi. (द) vii (ब) viii (अ) ix (अ) x (अ)

प्र.2. रिक्त स्थानों की पूर्ति कीजिये :-

i. सतुष्टि ii सीमान्त iii उन्नतोदर iv. अधिकतम v शून्य vi. गिरते vii. निम्नस्तरीय viii निम्नस्तरीय ix धनात्मक x. अत्यधिक लोचदार

प्र.3.सही जोड़ी बनाइये:- i. (इ) ii (द) iii (स) iv (ब) v. (अ) vi. (र) vii. (ल) viii I (ब) ix (य) x (फ)

एक शब्द /वाक्य में उत्तर दीजिये:

प्र.4. i. तटस्थता वक्र .ii अधिकतम iii. कुल उपयोगिता iv. उदासीनता मान चित्र v. पांच vi. धनात्मक vii. अत्यधिक लोचदार viii मात्रात्मक ix कुल उपयोगिता x उपयोगिता

प्र.5. सत्य/असत्य

i. सत्य ii असत्य iii सत्य iv सत्य v. असत्य vi. असत्य vii. असत्य viii सत्य ix असत्य x असत्य

अध्याय :-3

प्र.1.सही विकल्प चुनिए :-

i. (ब) ii (ब) iii (स) iv. (द) v (ब) vi. (अ) vii. (अ) viii (स) ix (स) x (अ) xi (द)

प्र.2 रिक्त स्थानों की पूर्ति कीजिये :-

i. सीमांत उत्पादन ii परिवर्तन शील उत्पादों का नियम iii. दीर्घ iv. अधिकतम v. दीर्घ काल vi. परिवर्तनशील vii. दीर्घ viii. औसत ix. U x. स्थिर लागत

प्र.3.सही जोड़ी बनाइये:-

i. (द) ii (स) iii (फ) iv. (य) v. (अ) vi. (ब) vii (ब) viii (इ) ix (र) x (ल)

प्र.4. एक शब्द /वाक्य में उत्तर दीजिये:

i. परिवर्तन शील उत्पादों का नियम ii कुल उत्पादन iii दो iv. भूमि, श्रम, पूंजी संघठन v. दीर्घकालीन vi. लागत उत्पादन vii. औसत लागत viii U ix परिवर्तनशील लागत x पूरक लागत

प्र.5. सत्य/असत्य

i. असत्य ii असत्य iii असत्य iv सत्य v. असत्य vi. असत्य vii. सत्य viii असत्य ix सत्य x सत्य

अध्याय :-4

प्र.1.सही विकल्प चुनिए :-

i. (अ) ii (स) iii (स) iv. (द) v. (अ) vi. (स) vii (अ) viii (ब) ix (अ) x (स)

प्र.2. रिक्त स्थानों की पूर्ति कीजिये :-

i. औसत आगम ii शून्य iii कम iv. धनात्मक v धनात्मक vi. बेलोचदर vii. बेलोचदर viii बेलोचदर ix पांच x. काल्पनिक

प्र.3.सही जोड़ी बनाइये:-i.(व) ii.(ल) iii.(र) iv.(य) v.(फ) vi.(इ) vii.  
(द) viii.(स) ix.(ब) x(अ)

प्र.4. एक शब्द /वाक्य में उत्तर दीजिये:

i.सीमान्त आगम ii.मांग और पूर्ति के बराबर होने पर iii. पूर्ण प्रतियोगिता iv.  
कीमत, मात्रा व पूर्ति के बीच v.पांच vi.अत्यधिक लोचदार पूर्ति vii.किसी अचल सम्पत्ति के  
मूल्य में लगातार होने वाली कमी 1 viii विक्रय राशि - उत्पादन लागत ixउत्पादन कम से  
कम और मूल्य अधिक x वस्तु की मात्रा \* कीमत

प्र.5.सत्य/असत्य

i.सत्य ii सत्य iii सत्य iv असत्य v. सत्य vi. असत्य vii. असत्य viii असत्य  
ix असत्य x सत्य

अध्याय :-5

प्र.1.सही विकल्प चुनिए :-

i.(द) ii(स) iii (अ) iv.(स) v.(स) vi.(स) vii(ब) viii (स) ix (अ)  
x(अ)

प्र.2.रिक्त स्थानों की पूर्ति कीजिये :-

i.समरूप ii पूर्णतया iii पूर्ण प्रतियोगी iv.पूर्ति v.सामान्य vi.दीर्घकालीन vii.साम्य  
viii बाज़ार ix सीधा.x. उत्पादन

प्र.3.सही जोड़ी बनाइये:-i.(ल) ii.(र) iii.(य) iv.(फ)v.(इ) vi.(द) vii.  
(स) viii (ब) ix (ब) x (अ)

प्र.4. एक शब्द /वाक्य में उत्तर दीजिये:i. मांग व पूर्ति ii.उपभोक्ता द्वारा iii. भूमि  
पर दिया जाने वाला पुरस्कार iv. उत्पादकों द्वारा v.बाज़ार मूल्य vi.न्यूनतम समर्थन मूल्य  
vii.बाज़ार viii वस्तु की मांग ix. वस्तु की पूर्ति x प्रो. मार्शल

प्र.5.सत्य/असत्य

i.असत्य ii असत्य iii असत्य iv सत्य v. असत्य vi. सत्य vii. असत्य viii असत्य  
ix सत्य x असत्य

भाग -2

समष्टि अर्थशास्त्र

अध्याय :-1

प्र.1.सही विकल्प चुनिए :-

i.(ब) ii(ब) iii (ब) iv.(अ) v.(द) vi.(द) vii(स) viii (अ) ix (ब)

प्र.2.रिक्त स्थानों की पूर्ति कीजिये :-

i.समष्टि ii.व्यापक iii निर्भरता iv.व्यष्टि v.कीन्स vi.समष्टि vii.मुक्त बाज़ार अर्थव्यवस्था  
viii 1929 ix 1936 .x. समष्टि

प्र.3.सही जोड़ी बनाइये:-i.(स) ii.(फ) iii(अ) iv(ज) v.(द) vi.(ब)

प्र.4. एक शब्द /वाक्य में उत्तर दीजिये:

i.समष्टि ii.विजातीय ईकाइया iii 1929 iv. समष्टि v.समष्टि vi. पूरक vii एडम  
स्मिथ viii जो आर्थिक निर्णय लेते हैं ix श्रमिकों की मांग व पूर्ति पर मजदूरी दर का निर्धारण

प्र.5.सत्य/असत्य

i.असत्य ii सत्य iii असत्य iv असत्य v. असत्य vi.सत्य vii. असत्य viii .सत्य

अध्याय :-2

प्र.1.सही विकल्प चुनिए :-

i. (द) ii (द) iii (स) iv. (अ) v. (ब) vi. (स) vii. (द) viii (द) ix (ब)  
x. (द)

**प्र.2. रिक्त स्थानों की पूर्ति कीजिये :-**

i. साइमन कुजनैट्स ii अंतिम iii अंतिम उपभोक्ता वस्तुओं का मूल्य iv शुद्ध घरेलु उत्पाद  
v. उपभोग/विनियोग vi. आय vii निवल उत्पाद कर - निवल उत्पादन कर viii राष्ट्रीय  
संपत्ति

ix मूल्यहास x अंतिम वस्तुओं और सेवाओं का मूल्य

**प्र3. सत्य/असत्य**

i. असत्य ii सत्य iii असत्य iv. सत्य v. असत्य vi. असत्य vii. असत्य viii. असत्य  
ix. असत्य x असत्य

**प्र.4. सही जोड़ी बनाइये:-** i. (स) ii. (द) iii (अ) iv (ब) v. (फ) vi. (य) .vii (र)

**प्र5. एक शब्द /वाक्य में उत्तर दीजिये:**

i. स्टॉक ii. हासमूल्य iii Gross Domestic Product iv. एक वित्त वर्ष  
v. प्राथमिक vi. मूल्य वृद्धि विधि .vii. राष्ट्रीय आय viii प्रति व्यक्ति आय ix. माध्यमवृत्ति  
वस्तुएं

**अध्याय :-3**

**प्र.1. सही विकल्प चुनिए :-**

i. (स) ii (अ) iii (अ) iv. (ब) v. (स) vi. (द) vii (ब) viii (अ) ix (द)  
x. (द) xi. (द) xii. (अ) xiii. (अ) xiv (अ) xv. (द) xvi. (अ) xvii (द)

**प्र2. एक शब्द /वाक्य में उत्तर दीजिये:**

i. सहायक कार्य ii. वस्तुविनिमय iii. तीव्र iv. घटेगी v. नहीं vi. घटेगा. vii. बैंक  
viii. रिज़र्व बैंक ix. R.B.I. x. नहीं

**प्रश्न.3) सही जोड़ियाँ बनाइये:-**

i. (इ) ii (अ) iii (फ) iv. (ब) v. (स) vi. (र) vii (द) viii (य) ix (ल)  
x. (व)

**अध्याय :-4**

**प्र.1. सही विकल्प चुनिए :-**

i. (अ) ii (स) iii (अ) iv. (अ) v. (ब) vi. (ब) vii (द) viii (द) ix (ब)  
x. (ब)

**प्र.2. रिक्त स्थानों की पूर्ति कीजिये:-**

i. गृहस्थ क्षेत्र ii. बचत iii. बाजार iv. रोजगार मांग v. APS vi. मजदूरी vii. प्रभावपूर्ण  
मांग viii स्फ़ीतिक अंतराल ix घाटे x. वृद्धि

**प्र3. सत्य/असत्य**

i. असत्य ii सत्य iii सत्य iv. असत्य v. सत्य vi. सत्य vii. सत्य viii. सत्य  
ix. असत्य x सत्य

**प्रश्न.4) सही जोड़ियाँ बनाइये:-**

i. (स) ii (अ) iii (द) iv. (ब) v. (फ) vi. (घ) vii (क) viii (प) ix (ग)  
x. (ख)

**प्र:5:- एक शब्द /वाक्य में उत्तर दीजिये:-**

i. जे. बी. से (J.B.SAY) ii. प्रेरित निवेश iii. पूर्ण प्रतियोगिता iv. समाजवादी अर्थव्यवस्था  
v. समग्र पूर्ति vi. APS vii. प्रतिफल की प्रत्याशित दर के बराबर viii प्रभावपूर्ण मांग में  
वृद्धि ix .C=F/Y x. MPC+MPS=1

**अध्याय :-5.**

**प्र.1.सही विकल्प चुनिए :-**

i. (ब) ii.(अ) iii (अ) iv.(द) v.(स) vi.(द) vii (स) viii (द) ix (स)  
x.(स) xi.(ब) xii.(ब) xiii.(स) xiv.(द)

**प्र.2.रिक्त स्थानों की पूर्ति कीजिये:-**

i.गैरकर ii.अनुमानित iii.पूँजीगतiv. गैरयोजनागत v.फरवरी vi.राजकोषीय vii.वित्त  
मंत्रीviii. वास्तविकता ix राजस्व x.पूँजी व राजस्व xi. ऋण

**प्र3.सत्य/असत्य:-** i.सत्य ii असत्य iii सत्य iv.सत्य v. असत्य vi. सत्य vii. सत्य  
viii.सत्य ix.असत्य x सत्य xi.सत्य xii.सत्य

**प्रश्न.4) सही जोड़ियाँ बनाइये:-**

i.(भ) ii(ख) iii (द) iv.(ग) v.(स) vi.(अ) vii(क) viii (प) ix (ब)  
x.(घ) xi.(म) xii.(फ)

**प्र:5:-एक शब्द /वाक्य में उत्तर दीजिये:-**

i.बजट ii.आर्थिक नियंत्रण iii .कीमत स्तर में वृद्धि iv.एक v.घाटे का बजट vi.2004  
vii. विकासात्मक viii. ix वित्तमंत्री x. वित्तमंत्री xi.राजस्व घाटा xii.राजकोषीय  
घाटा

**अध्याय :-6.**

**प्र.1.सही विकल्प चुनिए :-**

i. (ब) ii(ब) iii (द) iv.(ब) v.(स) vi.(द) vii (अ) viii (ब) ix (स)  
x.(स)

**प्र.2.रिक्त स्थानों की पूर्ति कीजिये:-**

i.पूँजी ii.पूँजी iii. संतुलन ; पूँजी ; चालू iv.व्यापार v.निर्यातvi.पक्ष vii दृश्य  
मदे / चालूखाता viii पूँजीगत ix .चालू x.कमी

**प्र3.सत्य/असत्य**

i.सत्य ii सत्य iii सत्य iv.असत्य v. असत्य vi. सत्य vii. सत्य viii.असत्य  
ix.असत्य x.असत्य

**प्रश्न.4) सही जोड़ियाँ बनाइये:-**

i.(फ) ii(स) iii (अ) iv.(ब) v.(द) vi.(ई) vii(ल) viii (ब) ix (र)  
x.(य)

**प्र:5:-एक शब्द /वाक्य में उत्तर दीजिये:-** i.व्यापार संतुलन ii.अदृश्य मदे iii मंहगे  
iv.आयात मांग में वृद्धि तथा अदृश्य अधिशेष के कारण v.पक्ष vi.लोचदार विनिमय दर vii.  
आयातों एवं निर्यातों के द्वारा viii. बीमा,परिवहन ix आयात ,निर्यात x.व्यापार संतुलन  
\*इस उत्तरमाला को तैयार करने में पूरी सावधानी बरती गई है किंतु इसके पश्चात भी यदि मुद्रण  
त्रुटी एवं अन्य कोई त्रुटी होती है तो विषय शिक्षक द्वारा इसे सही कर के छात्रों को बताया जाए  
।