

## মডেল অ্যাক্টিভিটি টাস্ক

### দ্বিতীয় শ্রেণি

#### সংযোগ স্থাপনে সক্ষমতা

১) নীচের পাঠটি পড় এবং প্রশ্নগুলির উত্তর লেখো :

২ × ৩ = ৬

শক্তিবাবু আর আক্রম বাঘ খুঁজতে নামলেন। জঙ্গল ঘন হয়ে এল। ঘোর অন্ধকার। কিছু দূরে গিয়ে দেখেন, এক পোড়ো মন্দির। জনপ্রাণী নেই। শক্তিবাবু বললেন, এইখানে একটু বিশ্রাম করি। সঙ্গে ছিল লুচি, আলুরদম আর পাঁঠার মাংস।

ক) ঘন জঙ্গলের মধ্যে শক্তিবাবু আর আক্রম কী দেখতে পেলেন?

খ) শক্তিবাবু কোথায় বসে বিশ্রাম করতে চাইলেন?

গ) তিনি কী আহার করলেন?

২) অর্থ লেখো :

(ক) ঘন = \_\_\_\_\_

(খ) পোড়ো = \_\_\_\_\_

১ × ২ = ২

৩) (ক) Fill in the blanks with correct verb forms :

১ × ৫ = ৫

	Yesterday	Today
(i)	I worked in the garden.	I _____ in the garden.
(ii)	They _____ with me.	They play with me.
(iii)	We enjoyed the food.	We _____ the food.
(iv)	My parents _____ for the market.	My parents start for the market.
(v)	You talked to me.	You _____ to me.

(খ) Tick the correct answer :

১ × ২ = ২

(i) (It/There) is a garden in our school.

(ii) (It/There) is Sunday today.

৪) সমস্যাগুলি গণিতের ভাষায় প্রকাশ করো :

২ × ৩ = ৬

(ক) একটি দোকানে ১২টি লাল টুপি ও ১৬টি সবুজ টুপি আছে। দুটি মিলিয়ে দোকানে মোট কয়টি টুপি আছে?

(খ) আমাদের বাগানে ৪টি নারকেল গাছ আছে। প্রত্যেকটা গাছে ৫টি করে নারকেল হয়েছে। তাহলে মোট কয়টি নারকেল আছে?

(গ) স্কুলে আমার ২৪ জন বন্ধু। আমার জন্মদিনে তাদের প্রত্যেককে আমি ২টি করে লজেন্স দেব। তাহলে আমার মোট কতগুলি লজেন্স লাগবে?

ছাত্রছাত্রীরা বাড়িতে নিজের বিষয়ভিত্তিক খাতায় এগুলো করে বিদ্যালয় খুললে শিক্ষকের কাছে জমা দেবে।

কোন অবস্থাতেই তারা বাড়ির বাইরে বেরোবে না।

## মডেল অ্যাক্টিভিটি টাস্ক

### দ্বিতীয় শ্রেণি

#### সময় স্থাপনে সক্ষমতা

১) ফাঁকা ঘরে যুক্তবর্ণ বসিয়ে শব্দ গঠন করো :

১ × ২ = ২

ক)

	অ	
ম		ল
	ন	

খ)

	আ	
বি		ম
	য়	

২) বন্ধনী থেকে একই অর্থ বিশিষ্ট শব্দ নিয়ে শূণ্যস্থানে বসো :

১ × ৫ = ৫

(ক) ছেলে \_\_\_\_\_ (খ) ফুল \_\_\_\_\_ (গ) মাথা \_\_\_\_\_ (ঘ) রাত \_\_\_\_\_ (ঙ) দাম \_\_\_\_\_

(মস্তক, মূল্য, রাত্রি, পুত্র, পুষ্প)

৩) Select words from each column and construct sentences :

১ × ৪ = ৪

This	is	stars
That		picture
These	are	a phone
Those		the sun

৪) 'ক' স্তম্ভের সাথে 'খ' আর 'খ' স্তম্ভের সাথে 'গ' দাগ দিয়ে মেলাও :

২ × ৫ = ১০

	ক	খ	গ
অ)	৪০ ÷ ৪	২০	৩ × ৪
আ)	৮ + ৪	১৩	১৫ - ৫
ই)	১৯ - ৬	৬	৩ + ৩
ঈ)	৩ × ২	১০	৫ × ৪
উ)	১০ + ১০	১২	৭ + ৬

ছাত্রছাত্রীরা বাড়িতে নিজের বিষয়ভিত্তিক খাতায় এগুলো করে বিদ্যালয় খুললে শিক্ষকের কাছে জমা দেবে।

কোন অবস্থাতেই তারা বাড়ির বাইরে বেরোবে না।

## মডেল অ্যাক্টিভিটি টাস্ক

### দ্বিতীয় শ্রেণি

#### সমস্যা সমাধানে সক্ষমতা

১.১) নীচের শব্দগুলিকে বাক্যের প্রথমে, মাঝে ও শেষে ব্যবহার করো :

৩ × ৩ = ৯

ক) জল খ) সবুজ গ) বৃষ্টি

১.২) নীচের শব্দগুলি থেকে যুক্তব্যাঞ্জন খুঁজে ও তা ব্যবহার করে নতুন শব্দ তৈরি করো :

১ × ৩ = ৩

(ক) গুঞ্জন খ) বাস্তব গ) দক্ষ

২) বিদ্যালয়ে স্বাধীনতা দিবসে কী কী করা হয় তা নিয়ে কয়েকটা বাক্য লেখো।

৩

৩.১) Fill in the table :

১ × ৩ = ৩

	About me	What I do	I am
(i)	Float in the sky. Take many shapes.	Bring rain.	
(ii)	Ball of fire. Shine in the sky.	Give light and heat.	
(iii)	Looks small. Can be seen in the sky at night.	Twinkle like diamonds.	

৩.২) Correct the following sentences :

১ × ২ = ২

(ক) That are running cars.

(খ) This are our favourite places.

৪) সমাধান করো :

২ × ৪ = ৮

(ক) ২৪ জন লোক নদীর পারে দাঁড়িয়ে আছে। তিনটে নৌকা ঘাটে বাঁধা আছে। প্রতিটি নৌকায় সমান সংখ্যক লোক উঠবে। তাহলে প্রতিটি নৌকায় কতজন লোক উঠবে?

(খ) আজ আমরা বাগানে ৩২টা চারা গাছ লাগাবো। যদি বাবা, মা, আমি আর ভাই সমান সংখ্যক গাছ লাগাই, তাহলে এক একজন কটা করে গাছ লাগাবে?

(গ) আফরুজা তার মায়ের সঙ্গে দোকানে গিয়ে ৬ ডজন পাকা কলা কিনল। ১ ডজনে ১২টা থাকে। তাহলে মোট কটা কলা কিনল?

(ঘ) আজ বাগান থেকে রাজু মোট ৩৬০টি আম এনেছে। আমগুলি বাক্সে ভরতে হবে। প্রত্যেকটা বাক্সে ৩০টা করে আম ভরা যাবে। তাহলে কয়টা বাক্স লাগবে?

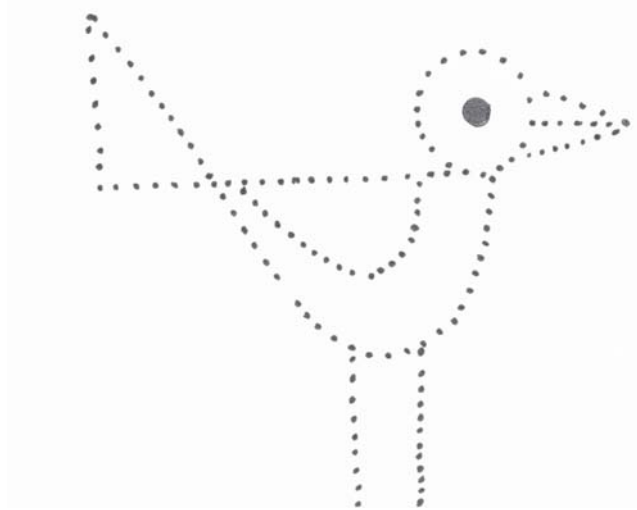
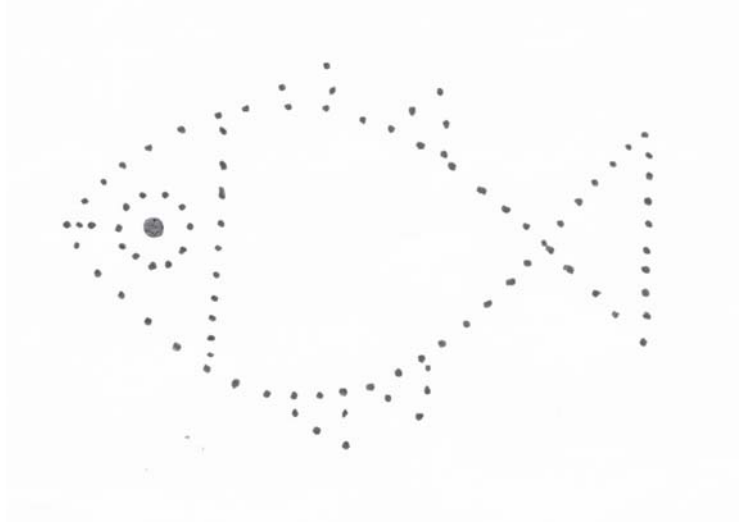
ছাত্রছাত্রীরা বাড়িতে নিজের বিষয়ভিত্তিক খাতায় এগুলো করে বিদ্যালয় খুললে শিক্ষকের কাছে জমা দেবে।

কোন অবস্থাতেই তারা বাড়ির বাইরে বেরোবে না।

মডেল অ্যাক্টিভিটি টাস্ক  
দ্বিতীয় শ্রেণি  
মানসিক ও শারীরিক সমন্বয় সাধন

১) ছবিগুলো আঁকো, রং করো এবং প্রতিটি ছবির ওপর তিনটি করে বাক্য লেখো।

২ + ২ + ১ = ৫



২) Draw the picture of a school. Write three sentences on the school.

২ + ২ + ১ = ৫

৩) ১২টা বল আছে। ছবি এঁকে দেখাও কীভাবে দুটো বাড়িতে সমান সংখ্যক বল রাখা যাবে।

২

ছাত্রছাত্রীরা বাড়িতে নিজের বিষয়ভিত্তিক খাতায় এগুলো করে বিদ্যালয় খুললে শিক্ষকের কাছে জমা দেবে।  
কোনো অবস্থাতেই তারা বাড়ির বাইরে বেরোবে না।

## মডেল অ্যাক্টিভিটি টাস্ক — ২০২১

### স্বাস্থ্য ও শারীরশিক্ষা দ্বিতীয় শ্রেণি

#### স্বাস্থ্য সচেতনতা ও খেলতে খেলতে শেখা

১। ঠিক শব্দগুলির পাশে '✓' দাও।

১ × ৮ = ৮

(ক) যিনি অসহায় তাকে \_\_\_\_\_ করে সুখী হবো।

(i) উপকার  / (ii) অপকার

(গ) কিছু খাবার পরে দাঁত ও মুখ পরিষ্কার করতে হবে \_\_\_\_\_ করে।

(i) জিভ দিয়ে  / (ii) কুলকুচি

(ঙ) \_\_\_\_\_ বেড়ে উঠলে সময়মতো কাটতে হবে।

(i) দাঁত  / (ii) নখ

(ছ) বাইরে থেকে বাড়িতে ঢুকলে সাবান দিয়ে \_\_\_\_\_ ধুতে হবে।

(i) হাত-পা  / (ii) কাগজপত্র

(খ) এসো শত্রু নয় \_\_\_\_\_ হই।

(i) শত্রু  / (ii) বন্ধু

(ঘ) বেশি মাত্রায় টিভি, মোবাইল বা কম্পিউটারে কাজ করলে \_\_\_\_\_ ক্ষতি হতে পারে।

(i) চোখের  / (ii) ত্বকের

(চ) যেকোনো জায়গায় \_\_\_\_\_ ফেললে অন্যকে রোগজীবাণু দেওয়া হয়।

(i) মাটি  / (ii) খুথু

(জ) \_\_\_\_\_ রোধ করতে পরিবেশ বন্ধু হতে হবে।

(i) পরিবেশ  / (ii) দূষণ

২। ভুল বাক্যের পাশে '✗' চিহ্ন দাও এবং ঠিক বাক্যের পাশে '✓' চিহ্ন দাও :-

১ × ৪ = ৪

(ক) শরীর সুস্থ রাখতে বেশি করে মশলাদার খাবার খেতে হবে।

(খ) নিয়মিত এখন সাবান দিয়ে হাত

পা ধোয়া ও মাস্ক ব্যবহার করতে হবে।

(গ) নোংরা জামাকাপড় থেকে রোগ ছড়ায়।

(ঘ) যেকোনো জায়গায় কাটা ফল দেখলেই খেতে হবে।

৩। একটা বাক্যে উত্তর দাও।




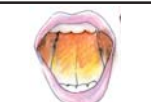
(ক) খেলাধুলো করবে কেন? ৩

(খ) কানের যত্ন নিতে কী করবে? ৩

(গ) পরিবারের কাজে সাহায্য করতে বললে, তুমি কী করবে? ৪

৪। বামদিকের সাথে ডানদিক মিলিয়ে দেখাও :

২ × ৪ = ৮

বামদিক	ডানদিক
(ক) 	ফুল আর পুঁতি দিয়ে মালা গাঁথার মজা অনেক।
(খ) 	ঢেকে রাখা খাবার বিপদ এড়ায়।
(গ) 	জিভের ওপর ময়লা প্রলেপ, রোগের লক্ষণ।
(ঘ) 	চোর ও পুলিশ খেলতে গিয়ে হিসাব শেখার মজা ভারি।

ছাত্রছাত্রীদেরকে বাড়িতে নিজের বিষয়ভিত্তিক খাতায় এ প্রশ্নগুলোর উত্তর লিখে বিদ্যালয় কর্তৃপক্ষের নির্দেশমতো অভিভাবকদের মাধ্যমে শিক্ষকদের কাছে জমা দিতে হবে। কোনো অবস্থাতেই শিক্ষার্থীরা বিদ্যালয়ে জমা দিতে আসবে না।